



**PRUEBAS PARA LA OBTENCIÓN DEL TÍTULO DE GRADUADO EN EDUCACIÓN
SECUNDARIA OBLIGATORIA DESTINADAS A PERSONAS MAYORES DE DIECIOCHO AÑOS
SEPTIEMBRE 2022**

DATOS DEL ASPIRANTE	CALIFICACIÓN
Apellidos:.....	
Nombre:..... DNI:.....	
Centro:.....	

ÁMBITO SOCIAL

Observaciones:

- Esta prueba se compone de un total de 13 preguntas.
- No todas las preguntas tienen el mismo valor. La puntuación de cada una de ellas se indica entre paréntesis al final de cada enunciado.
- La calificación final de la prueba será como máximo de 30 puntos.

1. Localice los siguientes accidentes geográficos en el continente correspondiente (3 puntos) (cada respuesta correcta 0,2 puntos):

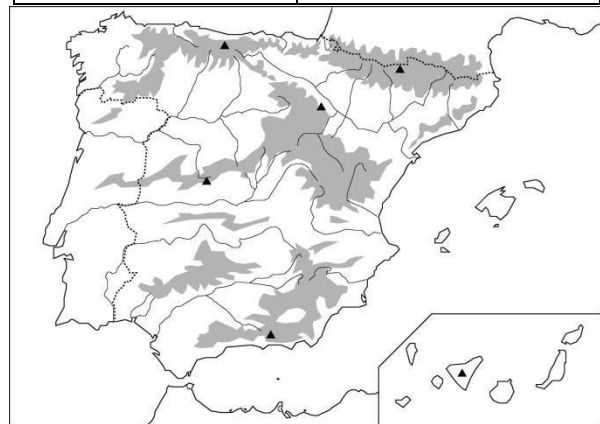
Himalaya	Alpes	Montañas Rocosas	Andes
Río Támesis	Río Congo	Río Colorado	Río Obi
Islas Filipinas	Madagascar	Nueva Zelanda	Islas Azores
Península Escandinava	Península de Florida	Cabo Buena Esperanza	

EUROPA	ASIA	ÁFRICA	AMÉRICA DEL NORTE	AMÉRICA CENTRAL Y DEL SUR	OCEANÍA

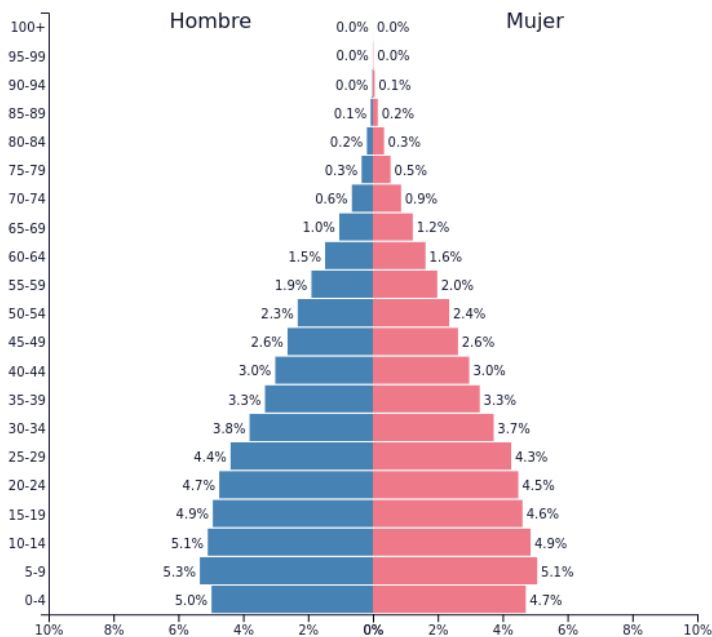
2. Localice, usando los números (mapa izquierdo) y letras (mapa derecho), las siguientes provincias y accidentes geográficos (2 puntos) (cada respuesta correcta 0,125 puntos):

1) Lugo	2) Cuenca
3) Granada	4) Zaragoza
5) Salamanca	6) Castellón
7) Gerona	8) Cáceres

A. Río Duero	B. Montes de Toledo
C. Río Guadiana	D. Aneto
E. Río Ebro	F. Sistema Ibérico
G. Menorca	H. Estrecho de Gibraltar



3. Analice la siguiente pirámide de población y conteste a las preguntas (2 puntos) (cada respuesta correcta 0,5 puntos):



PopulationPyramid.net

Filipinas - 2020
Población: 109,581,084

a) ¿Qué grupo de población (joven, adulta, anciana) predomina?

.....

.....

b) ¿Cómo son las tasas de natalidad y mortalidad?.....

.....

c) ¿Y la esperanza de vida?.....

.....

d) ¿Cómo sería el grado de desarrollo de este país? Razone la respuesta.

.....

.....

.....

.....

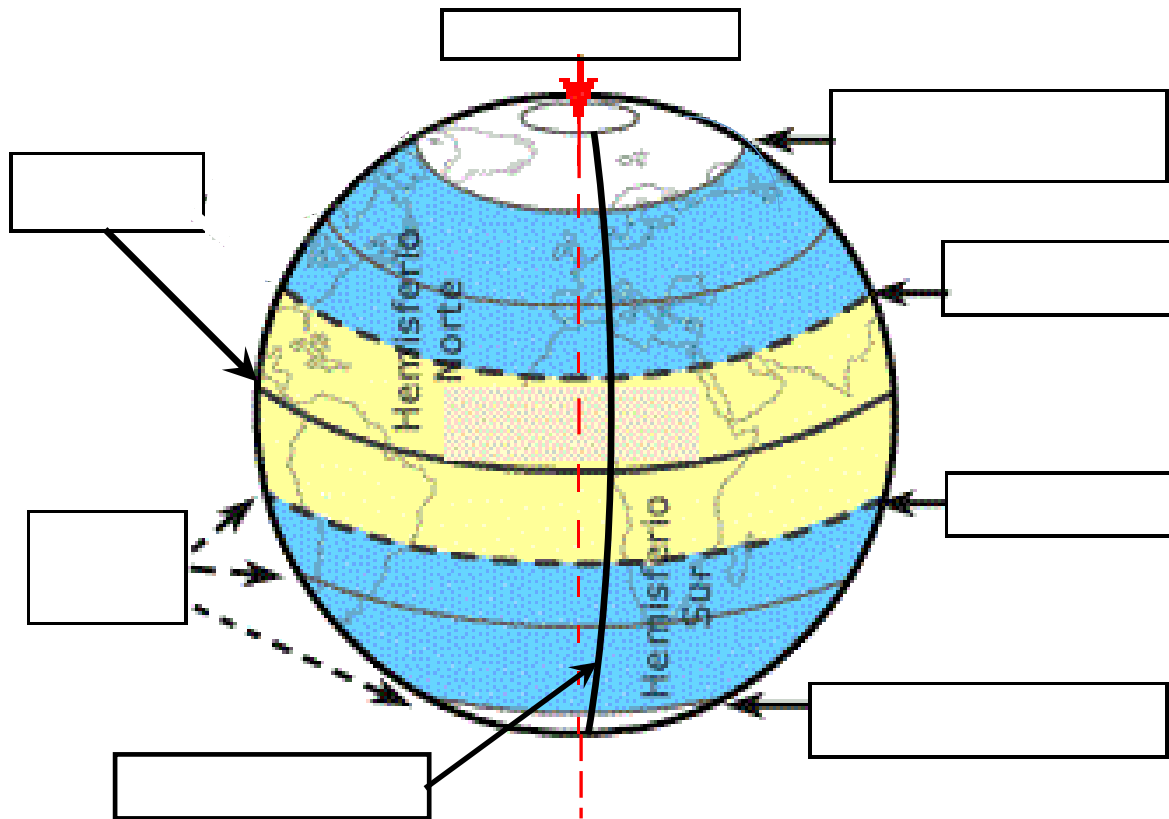
.....

.....

.....

4. Señale en el globo terráqueo las siguientes líneas imaginarias (2 puntos) (cada respuesta correcta 0,25 puntos):

- Trópico de Cáncer.
- Trópico de Capricornio.
- Círculo Polar Antártico.
- Círculo Polar Ártico.
- Ecuador.
- Eje Terrestre.
- Meridiano de Greenwich.
- Paralelos.



5. Escriba el término geográfico al que corresponde su definición (3 puntos) (cada respuesta correcta 0,25 puntos):

- a) Distancia desde un punto de la Tierra al ecuador.....
- b) Brusco temblor de la corteza terrestre.....
- c) Cantidad de agua que lleva un río.....
- d) Zonas de baja presión, que traen tiempo inestable y lluvioso.....
- e) Clima con temperaturas elevadas todo el año y con una estación seca (invierno) y otra lluviosa (verano).....
- f) Distancia desde un punto de la Tierra al Meridiano de Greenwich.....
- g) Porciones de tierra rodeadas de agua por todas partes.....
- h) Líneas imaginarias que unen puntos de igual temperatura.....



- i) Clima con temperaturas elevadas todo el año y precipitaciones muy abundantes.....
- j) Conjunto de aguas de la Tierra.....
- k) Gráfico en el que se representan las temperaturas y las precipitaciones de un lugar a lo largo de un año.....
- l) Líneas imaginarias que unen puntos de igual precipitación.....

6. Coloque las siguientes actividades económicas o profesiones en el sector que corresponda (1 punto) (cada respuesta correcta 0,1 puntos):

- Dentista.
- Empleado de una fábrica de muebles.
- Conductor de autobús.
- Agricultor.
- Pescador.
- Profesor.
- Abogado.
- Trabajador en una fábrica de embutidos.
- Albañil.
- Pastor de ganado.

PRIMARIO	SECUNDARIO	TERCIARIO

7. Rodee con un círculo la respuesta correcta (3 puntos) (cada respuesta 0,25 puntos).

- A. ¿Qué es la importación?
 - a. Salida de bienes y servicios hacia otro país.
 - b. Entrada de bienes y servicios en un país.
 - c. Intercambio de bienes y servicios dentro de un mismo país.
- B. Los países menos adelantados exportan:
 - a. Productos agrarios y materias primas.
 - b. Maquinaria a precios muy bajos.
 - c. Productos manufacturados y servicios muy especializados.
- C. Los agentes económicos son:
 - a. Familias, Empresas y Estado o sector público.
 - b. Las Industrias, Comercios y Servicios.
 - c. El Sector Privado y el Sector Público.
- D. ¿Qué es el coste de oportunidad?
 - a. Es aquello a lo que renunciamos cuando tomamos una decisión económica.
 - b. Es el coste monetario.
 - c. Es el coste que no se puede recuperar.
- E. Podemos definir solvencia como:
 - a. La capacidad económica del prestatario.
 - b. La capacidad económica del prestamista.
 - c. La garantía del préstamo.



- F. En un seguro, el tomador es:
- Quien contrata el seguro.
 - La compañía de seguros.
 - El beneficiario del seguro.
- G. Los préstamos de interés variable se calculan:
- En función del Euribor.
 - En función del Banco de España.
 - En función de la Tasa de Interés Nominal publicada por el Gobierno.
- H. Un empresario autónomo:
- Tiene responsabilidad limitada y paga Impuesto de Sociedades.
 - Tiene responsabilidad limitada y paga IRPF.
 - Tiene responsabilidad ilimitada y paga IRPF.
- I. El capital físico de una empresa está formado por:
- Maquinaria e instalaciones.
 - Recursos monetarios.
 - Conocimientos de los trabajadores.
- J. ¿Qué es el umbral de rentabilidad de una empresa?
- El precio de venta menos el coste de la producción.
 - Beneficios de la empresa.
 - Número mínimo de unidades que una empresa debe vender para cubrir costes totales.
- K. En un ciclo económico, en la recesión:
- Aumenta el PIB y la renta.
 - El PIB disminuye y aumenta el paro.
 - Crece el consumo.
- L. Si los tipos de interés suben:
- Se estimula la economía.
 - Se incrementa el consumo.
 - Se ralentiza la economía.

8. Complete las siguientes frases relativas a la Unión Europea (2 puntos) (cada respuesta correcta 0,25 puntos):

- El origen de la actual Unión Europea se encuentra en la Comunidad Europea del..... y del....., que se fundó en 1951.
- Con el Tratado de....., que se firma en 1957, nació la (CEE).
- España se incorporó en la CEE en el año.....
- En 1992 nació oficialmente la Unión Europea, con el Tratado de, que busca integrar a Europa no solo desde el punto de vista económico, sino también político.
- Hoy en día, tras la salida del Reino Unido, el número de países socios de la UE es de.....
- El..... dirige la política monetaria de los países de la zona del euro.
- Para ingresar en la Unión Europea, un país debe cumplir los “Criterios de.....”: tener una economía de mercado, un sistema democrático, respeto por los derechos humanos y aceptar la legislación europea.
- El representa a los ciudadanos europeos y está formado por 705 eurodiputados.



9. Rodee con un círculo la respuesta correcta (3 puntos) (cada respuesta correcta 0,3 puntos):

- A. Son etapas de la Prehistoria:
- a) La Edad Antigua y la Edad Media.
 - b) La Edad de Piedra y la Edad de los Metales.
 - c) La Edad de los Metales y la Edad Antigua.
- B. El Paleolítico se caracterizó por:
- a) Las sociedades de cazadores y recolectores.
 - b) Las sociedades de agricultores y ganaderos.
 - c) La piedra pulimentada.
- C. La escritura mesopotámica es conocida como:
- a) Jeroglífica.
 - b) Cuneiforme.
 - c) Cuneigráfica.
- D. Los ríos de Mesopotamia se llamaban:
- a) Tigris y Eúfrates.
 - b) Nilo e Indo.
 - c) Tíber y Orontes.
- E. ¿Quién conquistó todas las polis griegas?
- a) Atenas.
 - b) Filipo II de Macedonia.
 - c) Pericles.
- F. En las Guerras Médicas se enfrentan:
- a) Griegos contra persas.
 - b) Medos contra persas.
 - c) Atenas y Esparta.
- G. El sistema político de Atenas era:
- a) Una oligarquía.
 - b) Una democracia.
 - c) Una aristocracia.
- H. En el 395, a la muerte del emperador Teodosio:
- a) El imperio se divide en Oriente y Occidente.
 - b) Se concede la ciudadanía romana a los hombres libres.
 - c) Se conquista la Península Ibérica.
- I. ¿Cómo llamaron los romanos a la Península Ibérica?
- a) Hispania.
 - b) Lusitania.
 - c) Dalmacia.
- J. La arquitectura romana empleó:
- a) El mortero.
 - b) El adobe.
 - c) La cerámica vidriada.



10. Sitúe cada personaje o acontecimiento histórico en la etapa a la que corresponde (2 puntos) (cada respuesta correcta 0,2 puntos):

- OTAN
- Invención de la rueda
- Don Pelayo
- Adolfo Suárez
- Carlos I de España
- Reinos de Taifas
- Guerras Médicas
- Paz de Westfalia
- Aníbal
- Pintura rupestre de Altamira


PREHISTORIA	EDAD ANTIGUA	EDAD MEDIA	EDAD MODERNA	EDAD CONTEMPORÁNEA

11. Rodee con un círculo la respuesta correcta (3 puntos) (cada respuesta correcta 0,25 puntos):

- A. La Edad Media comienza en:
- a) 576, con la invasión de los pueblos bárbaros.
 - b) 476, con la desaparición del Imperio romano de Occidente.
 - c) 711, con la invasión musulmana.
- B. ¿Qué querían las cruzadas?
- a) Recuperar los Santos Lugares que estaban en manos de los musulmanes.
 - b) Luchar contra el Imperio Bizantino.
 - c) Conquistar el Imperio Romano.
- C. La Hégira es:
- a) Limosna en árabe.
 - b) El libro sagrado de los musulmanes.
 - c) El inicio del calendario musulmán.
- D. La capital del reino visigodo estaba en:
- a) Toledo.
 - b) Segovia.
 - c) Sevilla.
- E. La Edad Moderna comprende los siglos:
- a) XIV al XVI.
 - b) XVI al XVII.
 - c) XV al XVIII.
- F. ¿Quién conquistó el Imperio azteca?
- a) Hernán Cortés.
 - b) Diego de Almagro.
 - c) Pánfilo de Narváez.
- G. ¿Cuál de estos acontecimientos ocurrió durante el reinado de los Reyes Católicos?
- a) La conquista de Granada.
 - b) La reforma protestante.
 - c) La Guerra de los Treinta Años.

- H. El primer monarca borbón en España fue:
- a) Felipe V.
 - b) Carlos III.
 - c) Carlos IV.
- I. La Revolución Francesa comenzó con:
- a) El Terror de los jacobinos.
 - b) La toma de la Bastilla.
 - c) El gobierno de Robespierre.
- J. El objetivo del anarquismo es:
- a) La dictadura del proletariado.
 - b) Eliminación del Estado.
 - c) Creación de partidos políticos.
- K. El detonante de la I Guerra Mundial fue:
- a) La invasión de Polonia por Alemania.
 - b) La crisis económica de 1898.
 - c) El asesinato del heredero del trono austro-húngaro en Sarajevo.
- L. El estallido de la II Guerra Mundial se debió a:
- a) La invasión de la Unión Soviética Rusia por parte de Alemania en 1941.
 - b) La invasión de Polonia por parte de Alemania en 1939.
 - c) El bombardeo de Pearl Harbor en 1941.

12. Señale con una cruz la respuesta correcta de las siguientes obras artísticas (3 puntos) (cada respuesta correcta 0,25 puntos):



NOMBRE DE LA OBRA

El Hombre de la Nariz Rota ____

El Pensador ____

El David ____

AUTOR

Vincent van Gogh ____

Paul Gauguin ____




Auguste Rodin ____

ESTILO ARTÍSTICO

Realismo ____

Cubismo ____

Impresionismo ____

	<p>NOMBRE DE LA OBRA: María Antonieta ____ La Menina ____ La Gioconda __</p> <p>AUTOR: Miguel Ángel ____ Leonardo da Vinci ____ Rafael ____</p> <p>ESTILO ARTÍSTICO: Renacimiento ____ Barroco ____ Realismo ____</p>
	<p>NOMBRE DE LA OBRA: Catedral Notre Dame de Paris ____ Catedral de Murcia ____ Catedral de Santiago de Compostela ____</p> <p>SIGLOS DE CONSTRUCCIÓN: XI, XII y XIII ____ IX, X y XI ____ XIV, XV y XVI ____</p> <p>ESTILO ARTÍSTICO: Románico ____ Gótico ____ Modernista ____</p>
	<p>TEMÁTICA: Historia ____ Mitología ____ Mágica-Religiosa ____</p> <p>ESTILO ARTÍSTICO: Arte Helenístico ____ Arte Rupestre ____ Arte Románico ____</p> <p>PERIODO HISTÓRICO: Edad Antigua ____ Neolítico ____ Paleolítico ____</p>



13. Elija la definición correcta de los siguientes términos musicales (1 punto) (cada definición correcta 0,25 puntos):

- A. Polifonía:
- a. Danza de la Polinesia
 - b. Canto a varias voces.
 - c. Canto de la melodía a varias voces.
- B. Unísono:
- a. Canto a dos voces con la misma melodía.
 - b. Canto a varias voces con distinta melodía.
 - c. Canto cuyo texto está en latín.
- C. Canon:
- a. Una melodía a una sola voz.
 - b. Una melodía que repiten varias voces de forma escalonada.
 - c. Una melodía a varias voces que empiezan simultáneamente.
- D. Era utilizado en la liturgia de la Iglesia Católica Romana:
- a. Canto gregoriano.
 - b. Sonata.
 - c. Adagio