



**PRUEBA PARA LA OBTENCIÓN DEL TÍTULO DE GRADUADO EN EDUCACIÓN  
SECUNDARIA OBLIGATORIA DESTINADA A PERSONAS MAYORES DE DIECIOCHO AÑOS  
SEPTIEMBRE 2020**

DATOS DEL ASPIRANTE	CALIFICACIÓN
Apellidos:.....	
Nombre:..... DNI:.....	
Centro:.....	

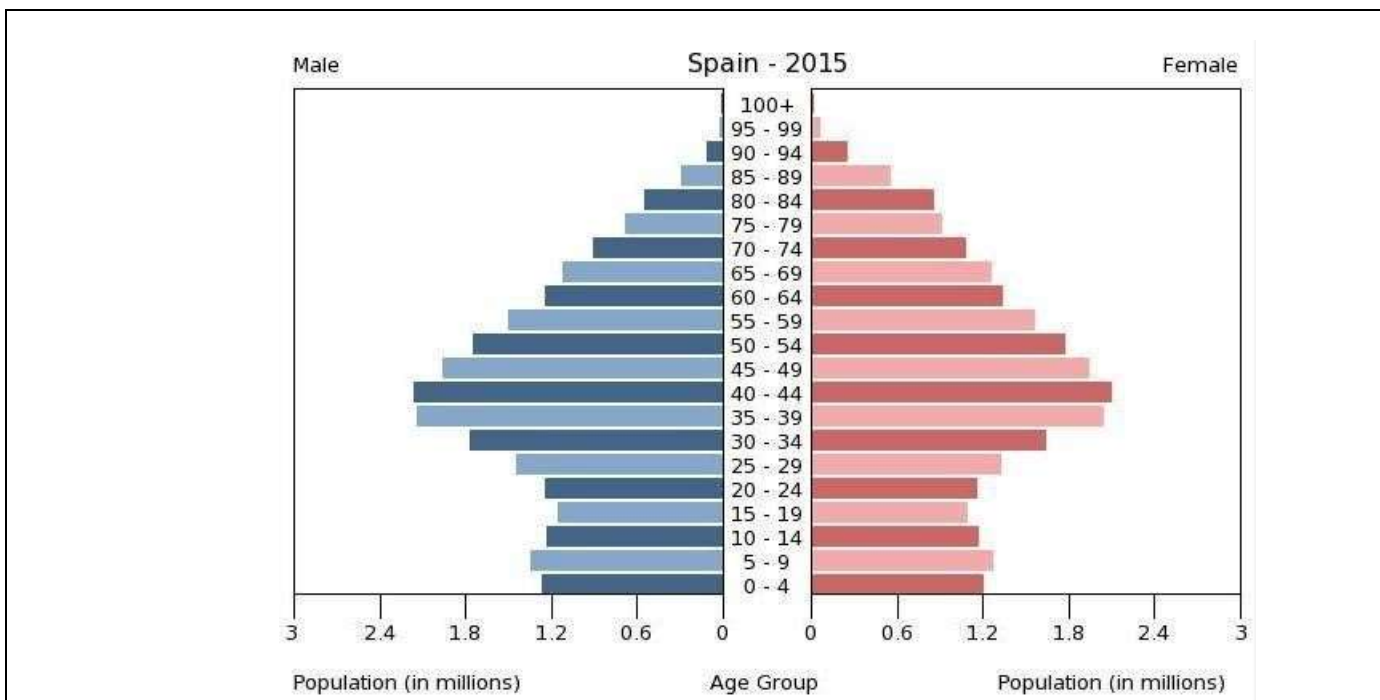
**ÁMBITO SOCIAL**

**Observaciones:**

- La estructura de esta prueba es la siguiente: una primera parte común de preguntas que deberán responder todos los aspirantes y una segunda parte con dos opciones A y B, a elegir una.
- La parte común de la prueba se calificará entre 0 y 23 puntos, y la parte optativa entre 0 y 7 puntos.
- No todas las preguntas tienen el mismo valor. La puntuación de cada pregunta se indica entre paréntesis al final de cada enunciado.
- La calificación final de la prueba será como máximo de 30 puntos.

**PARTE COMÚN (cuestiones de la 1 a la 11)**

1. Analice la siguiente pirámide de población y conteste a las preguntas (2 puntos) (cada respuesta correcta 0,66 puntos):



- a) Explique qué tipo de natalidad, mortalidad y esperanza de vida refleja esta pirámide



- b) ¿Qué forma tiene la pirámide? Según su forma, ¿qué nivel de desarrollo presenta un país con este perfil?
- c) Atendiendo a la población española de 2015, ¿qué problemas demográficos y económicos puede tener España en un futuro inmediato?

**2. Rodee con un círculo la respuesta correcta (2 puntos) (cada respuesta correcta 0,2 puntos):**

- A. Se denomina hidrosfera a la capa de la Tierra:  
a. Formada por agua.  
b. Más superficial.  
c. Formada por magma fluido.
- B. ¿Qué es la latitud?  
a. Es la distancia que hay desde los polos al ecuador.  
b. Es la distancia que hay entre dos puntos de la Tierra.  
c. Es la distancia que hay desde un punto de la Tierra al ecuador.
- C. Varias islas agrupadas forman:  
a. Península.  
b. Archipiélago.  
c. Albufera.
- D. Es un entrante de la tierra por el que penetra el mar:  
a. Un cabo.  
b. Una península.  
c. Un golfo.
- E. Movimiento de la Tierra sobre su propio eje:  
a. Rotación.  
b. Traslación.  
c. Órbita.
- F. Las líneas que unen puntos de igual temperatura se denominan:  
a. Isóbaras.  
b. Isotermas.  
c. Isoyetas.
- G. Densidad de población es:  
a. Número de habitantes de un país.  
b. Los kilómetros de un territorio.  
c. El número de habitantes de un lugar dividido entre los kilómetros cuadrados.
- H. Entre los movimientos naturales de la población está:  
a. Emigrar.  
b. Natalidad.  
c. Inmigrar.
- I. El cultivo de un único producto se conoce como:  
a. Minifundio.  
b. Monocultivo.  
c. Latifundio.
- J. Señale cuál de las energías no es renovable:  
a. Energía solar.  
b. Gas natural.  
c. Biomasa.



**3. Coloque las siguientes actividades económicas en el sector que corresponda (1 punto) (cada respuesta correcta 0,1 puntos):**

Cultivo del melocotón, enseñanza secundaria, transporte de mercancías, minería de carbón, fábrica de productos lácteos, mercado de abastos, tala de árboles, actividades turísticas, industria del acero y venta de vehículos.

PRIMARIO	SECUNDARIO	TERCIARIO

**4. Rodee con un círculo la respuesta correcta (4 puntos) (cada respuesta correcta 0,4 puntos).**

1. ¿Qué es la exportación?
  - a. Intercambio de bienes y servicios dentro de un mismo país.
  - b. Entrada de bienes y servicios en un país.
  - c. Salida de bienes y servicios hacia otro país.
2. ¿Qué es el coste de oportunidad?
  - a. Es aquello a lo que renunciamos cuando tomamos una decisión económica.
  - b. Es el coste monetario.
  - c. Es el coste que no se puede recuperar.
3. Los ingresos del Estado proceden de:
  - a. Los impuestos.
  - b. Las prestaciones sociales.
  - c. Los bienes y servicios que ofrece.
4. Podemos definir solvencia como:
  - a. La capacidad económica del prestatario.
  - b. La capacidad económica del prestamista.
  - c. La garantía del préstamo.
5. Los préstamos de interés variable se calculan:
  - a. En función del Euribor.
  - b. En función del Banco de España.
  - c. En función de la Tasa de Interés Nominal publicada por el Gobierno.
6. En un seguro, el tomador es:
  - a. Quien contrata el seguro.
  - b. La compañía de seguros.
  - c. El beneficiario del seguro.
7. Para constituir una Sociedad Limitada se exige:
  - a. Capital mínimo de 60.000 €.
  - b. No se requiere capital mínimo.
  - c. Capital mínimo de 3.000 €.
8. ¿Qué es el umbral de rentabilidad de una empresa?
  - a. El precio de venta menos el coste de la producción.
  - b. Beneficios de la empresa.
  - c. Número mínimo de unidades que una empresa debe vender para cubrir costes totales.
9. ¿Qué son los costes fijos?
  - a. Permanecen constantes, aunque aumente o disminuya la producción.
  - b. Varían en función del volumen de la producción.
  - c. Valor monetario de los recursos utilizados.
10. Si el Banco Central Europeo aumenta mucho el dinero en circulación:
  - a. Podrían subir los precios.
  - b. Podrían bajar los precios.
  - c. Podría aumentar el déficit público.



**5. Rodee con un círculo la respuesta correcta (3 puntos) (cada respuesta correcta 0,3 puntos):**

1. ¿Qué marcó el inicio de la Historia?
  - a. La invención del fuego.
  - b. La invención de la agricultura.
  - c. La invención de la escritura.
2. ¿En qué época se desarrolló el feudalismo?
  - a. Edad Contemporánea.
  - b. Edad Media.
  - c. Edad Moderna.
3. En 1978 se estableció una forma de gobierno en España:
  - a. Dictadura.
  - b. Monarquía parlamentaria.
  - c. Monarquía federal.
4. Los fundadores de Cartago Nova fueron:
  - a. Griegos.
  - b. Fenicios.
  - c. Cartagineses.
5. La causa inmediata que provocó el estallido de la I Guerra Mundial fue:
  - a. La persecución de los judíos.
  - b. El comunismo de Rusia.
  - c. El asesinato de Francisco Fernando en Sarajevo.
6. La transición española duró:
  - a. 1977-1980.
  - b. 1975-1982.
  - c. 1980-1982.
7. ¿Qué sistema político surgió en el siglo XVIII?
  - a. República.
  - b. Despotismo Ilustrado.
  - c. Monarquía
8. Marx consideró que:
  - a. La lucha de clases es el permanente enfrentamiento entre los propietarios de los medios de producción y los no propietarios.
  - b. Para acabar con la explotación del trabajador hay que aumentar la propiedad privada todo lo posible.
  - c. Hay que hacer un reparto de la riqueza que favorezca a los ricos.
9. Uno de los acontecimientos cruciales que se produjeron en el periodo de Entreguerras (1919-1939) fue:
  - a. El movimiento obrero.
  - b. La Guerra Fría.
  - c. El surgimiento del fascismo.
10. ¿Quiénes dominaban la Península Ibérica en el año 650?
  - a. Musulmanes.
  - b. Visigodos.
  - c. Romanos.

**6. Indique si las siguientes afirmaciones son verdaderas (V) o falsas (F) (2 puntos) (cada respuesta correcta 0,2 puntos):**

- a) Mediante Revolución Neolítica el ser humano comienza a domesticar vegetales y plantas y deja de ser un cazador recolector.....
- b) El primer emperador Romano fue Rómulo Augústulo en el año 476.....
- c) La Guerra de Sucesión fue un conflicto bélico que enfrentó a dos familias reinantes en el siglo XIX.....
- d) El trazado de los primeros ferrocarriles españoles tuvo forma radial.....
- e) La Guerra Civil española duró del 18/7/1936 al 1/4/1939.....



- f) Por el Tratado de Utrecht en el año 1713 Gran Bretaña devuelve la soberanía de Gibraltar a la Monarquía Hispánica.....
- g) La Marcha Verde fue promovida por el rey Hassan II de Marruecos.....
- h) Publio Cornelio Escipión inició la denominada Romanización en la Península Ibérica en el siglo IV después de Cristo.....
- i) Abderramán III se autoproclama Califa de Córdoba en el año 929.....
- j) España nunca ha estado en guerra con Estados Unidos.....

**7. Sitúe cada personaje o acontecimiento histórico en la etapa a la que corresponde (2 puntos) (cada respuesta correcta 0,2 puntos):**

- Revolución rusa
- Reinos de Taifas
- Paleolítico
- Catedrales góticas
- II República
- Aparición del Islam
- Guerra de los Cien Años
- Impresionismo
- II Guerra Mundial
- Guerra del Peloponeso




PREHISTORIA	EDAD ANTIGUA	EDAD MEDIA	EDAD MODERNA	EDAD CONTEMPORÁNEA

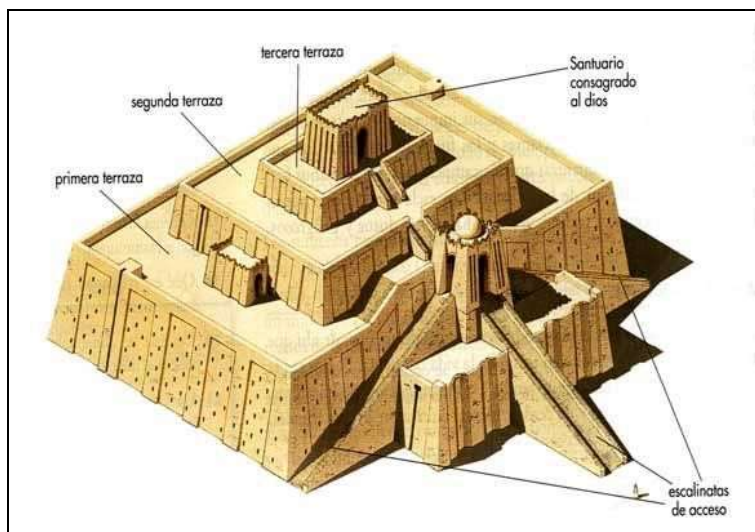
**8. Relacione las palabras de la columna izquierda con su definición (2 puntos) (cada respuesta correcta 0,25 puntos):**

1	VALIDO	Corriente cultural que se preocupa por estudiar al hombre
2	VASALLAJE	Proceso por el que los cristianos van conquistando a los musulmanes territorio peninsular
3	HUMANISMO	Burgués o adinerado que acoge a un artista y le paga sus obras.
4	PANTOCRÁTOR	Ayudante y gobernador de los reyes españoles del siglo XVII.
5	MECENAS	Sistema de gobierno propio de la Edad Media, basado en una serie de lazos y obligaciones que vinculaban a vasallos y señores
6	MAYORAZGO	Es el primer hijo varón que hereda todas las riquezas de la familia
7	ISLAM	Representación de Cristo en las iglesias en posición autoritaria
8	RECONQUISTA	Religión que nace en Arabia y cuyo profeta era Mahoma



9. Señale con una cruz la respuesta correcta de las siguientes obras artísticas (3 puntos) (cada respuesta correcta 0,25 puntos):

	<p><b>NOMBRE DE LA OBRA:</b> Las Señoritas de Avignon__ Las Damas__ Las Tres Gracias__</p> <p><b>AUTOR:</b> Picasso __ Monet __ Rubens __</p> <p><b>ESTILO ARTÍSTICO:</b> Romanticismo __ Barroco__ Gótico__</p>
	<p><b>NOMBRE DE LA OBRA:</b> La maja vestida __ La infanta María__ La maja de Madrid__</p> <p><b>AUTOR:</b> Miró __ Goya__ Dalí __</p> <p><b>ESTILO ARTÍSTICO:</b> Barroco__ Neoclásico__ Expresionista __</p>
	<p><b>TEMÁTICA:</b> Historia__ Mitología__ Mágica-Religiosa__</p> <p><b>ESTILO ARTÍSTICO:</b> Arte Helenístico__ Arte Rupestre__ Arte Clásico__</p> <p><b>PERIODO HISTÓRICO:</b> Edad Antigua__ Neolítico__ Paleolítico__</p>



**TIPO EDIFICIO:**

Hipogeo \_\_\_  
 Mastaba \_\_\_  
 Zigurat \_\_\_

**ESTILO ARTÍSTICO:**

Arte egipcio \_\_\_  
 Arte mesopotámico \_\_\_  
 Arte griego \_\_\_

**PERIODO HISTÓRICO:**

Edad Antigua \_\_\_  
 Prehistoria \_\_\_  
 Edad Media \_\_\_

10. Relacione cada autor con su obra, escribiendo el número correspondiente en los cuadros en blanco (1 punto) (cada respuesta correcta 0,2 puntos):

1) Händel	La flauta mágica	
2) Beethoven	El Lago de los Cisnes	
3) Mozart	La Traviata	
4) Tchaikovski	El Mesías	
5) Verdi	Para Elisa	

11. Clasifique los siguientes instrumentos musicales según la familia a la que pertenezcan: trompeta – violín – piano – xilófono – flauta – tuba – timbales – contrabajo – guitarra – pandereta (1 punto) (cada respuesta correcta 0,1 puntos):

PERCUSIÓN	VIENTO	CUERDA



**PARTE OPTATIVA (cuestiones de la 12 a la 14) Elegir entre opción A o B**

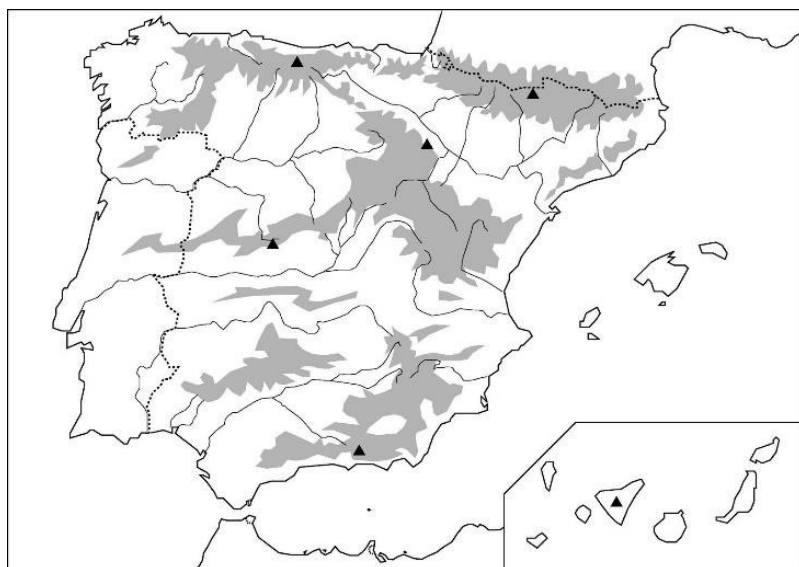
**OPCIÓN A**

**12. Localice los siguientes accidentes geográficos en el continente correspondiente (3 puntos) (cada respuesta correcta 0,2 puntos):**

Cordillera de los Apeninos	Mar de Aral	Desierto de Gobi	Río Rin
Lago Hurón	Monte Everest	Golfo Pérsico	Lago Chad
Península del Yucatán	Río de la Plata	Golfo de México	Península de Alaska
Mar Egeo	Isla de Madagascar	Estrecho de Magallanes	

EUROPA	ASIA	ÁFRICA	AMÉRICA DEL NORTE	AMÉRICA CENTRAL Y DEL SUR	OCEANÍA

**13. Sitúe en el mapa de la Península Ibérica los siguientes accidentes geográficos (sólo tiene que colocar el número en el mapa) (2 puntos) (cada respuesta correcta 0,2 puntos):**

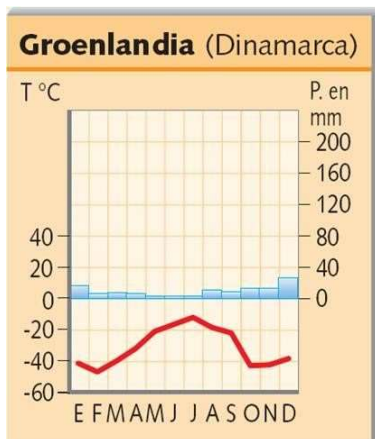


1. Aneto.
2. Sierra Morena
3. Montes de Toledo
4. Ebro
5. Miño
6. Cabo de Creus
7. Montes Vascos
8. Teide
9. Sistema Central
10. Guadiana





14. Analice las temperaturas y las precipitaciones del siguiente climograma (2 puntos) (cada respuesta correcta 0,5 puntos):

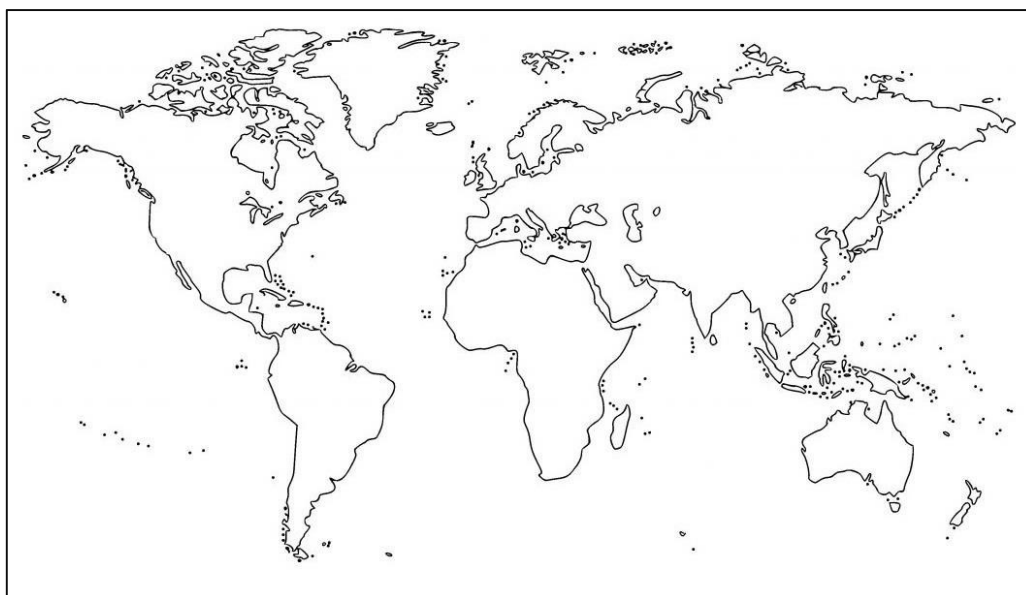


- a) Temperaturas: .....
- .....
- b) Precipitaciones: .....
- .....
- c) Tipo de clima: .....
- d) ¿En qué zonas de la Tierra encontramos este clima?.....
- .....

**OPCIÓN B**

12. Sitúe en el siguiente mapamundi (utilizando el número correspondiente) los siguientes elementos del relieve (3 puntos) (cada respuesta correcta 0,2 puntos):

1. Cordillera del Himalaya	2. Océano Atlántico	3. Península Ibérica	4. Montañas Rocosas
5. Río Amazonas	6. Desierto del Sáhara	7. Cordillera de los Andes	8. Océano Índico
9. Río Nilo	10. Mar de China	11. Península Arábiga	12. Mar Caribe
13. Mar Báltico	14. Subcontinente Indio	15. Groenlandia	





13. Localice las siguientes comunidades autónomas situando en el mapa los números que las preceden (2 puntos) (cada respuesta correcta 0,2 puntos):



1. Cantabria
2. La Rioja
3. Islas Canarias
4. Galicia
5. Cataluña
6. Navarra
7. Extremadura
8. Aragón
9. Castilla y León
10. Andalucía

14. Observe esta tabla sobre temperaturas (T) y precipitaciones (P) que se han registrado en cada uno de los meses de un año, y que encajan con uno de los climas de España. A continuación, responda las siguientes preguntas (2 puntos) (cada respuesta correcta 0,5 puntos):

	E	F	M	A	M	J	JL	A	S	O	N	D
T	9	10	13	14	15	20	23	25	18	15	12	12
P	18	28	30	38	37	17	9	8	39	40	55	23

Averigüe:

- a. Amplitud térmica: .....
- b. Precipitaciones anuales: .....
- c. Temperatura media anual: .....
- d. ¿A qué clima pertenece?.....