



**PRUEBA PARA LA OBTENCIÓN DEL TÍTULO DE GRADUADO EN EDUCACIÓN
 SECUNDARIA OBLIGATORIA DESTINADA A PERSONAS MAYORES DE DIECIOCHO AÑOS
 JUNIO 2020**

DATOS DEL ASPIRANTE	CALIFICACIÓN
Apellidos:.....	
Nombre:..... DNI:.....	
Centro:.....	

ÁMBITO SOCIAL

Observaciones:

- La estructura de esta prueba es la siguiente: una primera parte común de preguntas que deberán responder todos los aspirantes y una segunda parte con dos opciones A y B, a elegir una.
- La parte común de la prueba se calificará entre 0 y 22 puntos, y la parte optativa entre 0 y 8 puntos.
- No todas las preguntas tienen el mismo valor. La puntuación de cada pregunta se indica entre paréntesis al final de cada enunciado.
- La calificación final de la prueba será como máximo de 30 puntos.

PARTE COMÚN (cuestiones de la 1 a la 9)

1. Escriba cada uno de los siguientes lugares geográficos, en la columna del continente al que corresponda (3 puntos) (cada respuesta correcta 0,2):

Desierto del Sahara	Estrecho de Magallanes	Isla de Madagascar	Río Danubio
Mar Caspio	Península Escandinava	Montañas Rocosas	Nueva Zelanda
Río Senegal	Himalaya	Pico Aconcagua	Mar del Norte
Isla de Ceilán	Gran Desierto Victoria	Río Ganges	

EUROPA	ASIA	ÁFRICA	AMÉRICA DEL NORTE	AMÉRICA CENTRAL Y DEL SUR	OCEANÍA



2. Rodee con un círculo la respuesta correcta (2 puntos) (cada respuesta correcta 0,2 puntos):

- A. El movimiento de la tierra alrededor del sol se denomina:
- Rotación
 - Traslación
 - Transacción
- B. La envoltura gaseosa que rodea la Tierra se llama:
- Estratosfera
 - Ionosfera
 - Atmosfera.
- C. Un enorme conjunto de estrellas es una:
- Constelación
 - Galaxia
 - Nebulosa
- D. ¿Cómo se llama una masa de tierra que se adentra en el mar?
- Cabo
 - Golfo
 - Bahía
- E. Al conjunto de aguas superficiales de la corteza terrestre se le designa como:
- Océanos
 - Humedales
 - Hidrosfera
- F. ¿Cómo se denominan las líneas que unen puntos de igual presión atmosférica?
- Isotermas
 - Isoyetas
 - Isobaras
- G. ¿Cuál es la montaña más alta de la Península Ibérica?
- El Teide
 - El Aneto
 - Mulhacén
- H. Los habitantes por km² de un lugar determinado se llama...
- Densidad de población
 - Tasa de habitantes
 - Índice de habitantes
- I. Las condiciones atmosféricas de un lugar durante muchos años se conocen como:
- Tiempo atmosférico
 - Clima
 - Meteorología
- J. Se consideran energías renovables...
- Eólica, gas natural, solar, biomasa
 - Hidroeléctrica, petróleo, mareomotriz, bioetanol
 - Biomasa, geotérmica, mareomotriz, eólica

3. Rodee con un círculo la respuesta correcta (4 puntos) (cada respuesta correcta 0,4 puntos):

- A. ¿Qué es la deslocalización de la producción?
- Trasladar las empresas desde los países desarrollados hacia países en vías de desarrollo.
 - Trasladar las empresas hacia países desarrollados.
 - Cambio de residencia de los trabajadores de las empresas.
- B. ¿Qué es el avalista?
- La garantía del préstamo.
 - El bien empleado como garantía del préstamo.
 - La persona que se compromete a pagar el préstamo si el cliente no puede.



- C. En una tarjeta de débito:
- El pago es aplazado.
 - El pago es al contado.
 - Podemos elegir el número de meses en los que queremos saldar la deuda.
- D. Para identificar una cuenta bancaria se emplea:
- Número de cuenta.
 - El IBAN.
 - Extracto bancario.
- E. El proteccionismo defiende que un país debe:
- Limitar las importaciones.
 - Eliminar barreras aduaneras y favorecer el comercio.
 - Eliminar las subvenciones a la producción interior.
- F. Un ejemplo de impuesto indirecto sería:
- El IVA.
 - El Impuesto sobre sociedades.
 - El IRPF.
- G. El modelo de financiación en el que un colectivo de personas puede participar en un proyecto a cambio de algo es:
- El playfunding.
 - El crowdlending.
 - El crowdfunding.
- H. ¿Cuál de estos acontecimientos no provoca inflación?
- Aumento de la demanda.
 - Aumento en la oferta.
 - Impresión de mucho nuevo dinero.
- I. ¿Quién dirige y controla la economía en un sistema socialista?
- El mercado.
 - La ley de la oferta y la demanda.
 - El Estado.
- J. ¿Qué es la tasa de paro?
- Cantidad de personas que no trabajan.
 - Porcentaje de parados con respecto a la población activa.
 - Es la diferencia entra la población activa y la población inactiva.

4. **Relacione cada concepto con su definición, escribiendo el número que corresponda en cada caso. (2 puntos) (cada respuesta correcta 0,2 puntos):**

CONCEPTO	Nº	DEFINICIÓN
MERIDIANO		1. Cara de una montaña que no recibe los rayos solares
ECUADOR		2. Línea imaginaria que divide el planeta en dos hemisferios idénticos
CLIMA OCEÁNICO		3. Aparato que sirve para medir la cantidad de lluvia
LATITUD		4. Distancia angular que hay desde un punto de la superficie de la Tierra con respecto al ecuador
CLIMA MEDITERRÁNEO		5. Clima con inviernos suaves y veranos frescos con precipitaciones regulares todo el año
LONGITUD		6. Línea geográfica imaginaria consistente en semicircunferencias que pasan por los dos polos
ISOYETAS		7. Distancia angular que hay desde un punto de la superficie de la Tierra con respecto al meridiano 0 o de Greenwich
BARÓMETRO		8. Líneas que indican en un mapa puntos con la misma pluviosidad
UMBRÍA		9. Aparato con el que se mide la presión atmosférica
PLUVIÓMETRO		10. Clima con veranos calurosos y secos e inviernos suaves, con precipitaciones ocasionales



5. Indique a qué sector económico (Primario, Secundario o Terciario) pertenecen las siguientes profesiones (1 punto) (cada respuesta correcta 0,1 puntos):

PROFESIÓN	SECTOR
Apicultor	
Empleado de gasolinera	
Albañil	
Obrero en una fábrica de calzado	
Policía Municipal	
Pastor de ovejas	
Conductor de autobús	
Empleado de banca	
Jornalero	
Repartidor de paquetería	

6. Indique si las siguientes afirmaciones son verdaderas (V) o falsas (F) (3 puntos) (cada respuesta 0,3 puntos):

- A. España es un Estado plenamente democrático y basado en el sufragio universal.....
- B. La función más importante del Parlamento Europeo es aprobar el presupuesto de la UE.....
- C. La soberanía nacional, es decir, el poder supremo, descansa en la figura del rey.....
- D. La Comisión Europea está formada por comisarios de sanidad, agricultura, industria, etc.....
- E. El Gobierno de España está formado por dos cámaras: el Congreso y el Senado.....
- F. El Banco Central Europeo es responsable de la política monetaria europea.....
- G. En la monarquía parlamentaria el poder del rey está limitado por las Cortes y la Constitución.....
- H. En España el poder ejecutivo reside en las Cortes.....
- I. España es un Estado descentralizado al reconocer la autonomía para sus diversos territorios.....
- J. La transición en España se inicia con José María Aznar como presidente.....

7. Rodee con un círculo la respuesta correcta (3 puntos) (cada respuesta correcta 0,3 puntos):

- A. El hombre descubrió el fuego en:
 - a. El Paleolítico.
 - b. El Mesolítico.
 - c. El Neolítico.
- B. La aparición de la agricultura se produjo en:
 - a. La Edad Media.
 - b. El Neolítico.
 - c. La Edad Antigua.
- C. La religión en la Antigua Grecia se caracterizaba por:
 - a. El monoteísmo.
 - b. El politeísmo.
 - c. No creían en Dios.
- D. El dios más importante del panteón romano fue:
 - a. Poseidón.
 - b. Atenea.
 - c. Júpiter.



- E. La invasión musulmana de la Península Ibérica tuvo lugar en el año:
- 218 a.C.
 - 711.
 - 100.
- F. La Reconquista se inició por:
- Batalla de Las Navas de Tolosa.
 - Rebelión de D. Pelayo.
 - Batalla de Trafalgar.
- G. La Edad Moderna comienza con:
- El Descubrimiento de América.
 - La caída del Imperio Romano de Occidente.
 - La Revolución Francesa.
- H. La Revolución Industrial se produjo en los siglos:
- XVIII-XIX.
 - XIII-XIIV.
 - XV-XVI.
- I. La “Triple Alianza” y la “Triple Entente” fueron bandos en conflicto en:
- La I Guerra Mundial.
 - La II Guerra Mundial.
 - La Guerra de los Balcanes.
- J. El fin de la Guerra Fría supuso:
- El establecimiento del modelo económico comunista en Europa.
 - La instauración del bloque comunista y la constitución de la URSS.
 - La descomposición del bloque comunista y la desaparición de la URSS.

8. Sitúe cada concepto histórico en la etapa a la que corresponde (2 puntos) (cada respuesta correcta 0,2 puntos):

- Sociedad feudal
- Reforma protestante
- Caída del Muro de Berlín
- Siglo de Las Luces
- Paleolítico
- La Reconquista
- La Constitución de Cádiz
- Escritura cuneiforme
- La II República española
- Egipto faraónico

PREHISTORIA	EDAD ANTIGUA	EDAD MEDIA	EDAD MODERNA	EDAD CONTEMPORÁNEA



9. Relacione las siguientes personas con los acontecimientos o conceptos históricos de la tabla (2 puntos) (cada respuesta correcta 0,2 puntos):

Aníbal	Pericles	Winston Churchill	Octavio Augusto	Isabel I de Castilla
Cleopatra	Conde-Duque de Olivares	María Antonieta	Benito Mussolini	Felipe II

CONCEPTOS/ACONTECIMIENTOS	PERSONAJE
Armada Invencible	
Valido del rey Felipe IV	
Primer emperador romano	
Revolución Francesa	
Segunda Guerra Mundial	
Guerras Púnicas	
Gobernante de Egipto	
Conquista de Granada	
Fascismo	
Democracia ateniense	



PARTE OPTATIVA (cuestiones de la 10 a la 13) Elegir entre opción A o B

OPCIÓN A

10. Sitúe en el mapa de la Península Ibérica los siguientes accidentes geográficos (sólo tiene que colocar el número en el mapa) (2 puntos) (cada respuesta correcta 0,2 puntos):



	<ol style="list-style-type: none">1. Río Guadiana.2. Río Duero3. Río Ebro4. Mar Mediterráneo5. Depresión del Ebro6. Mar Cantábrico7. Cordillera Cantábrica8. Sistema Ibérico9. Pirineos10. Cabo de Palos
--	---

11. Observe esta pirámide de población y conteste las siguientes preguntas (2 puntos) (cada respuesta correcta 0,5 puntos):

	<ol style="list-style-type: none">a) ¿Cuál es la forma de la pirámide?b) ¿Qué grupo de la población es el que predomina en ella?c) ¿Cómo es la natalidad de la población, mortalidad y esperanza de vida?d) ¿A qué tipo de países corresponde esta pirámide?
--	---



12. Señale con una cruz la respuesta correcta de las siguientes obras artísticas: (3 puntos) (cada respuesta correcta 0,25 puntos):

	<p>NOMBRE DE LA OBRA: El Partenón ___ El Coliseo ___ El Circo romano ___</p> <p>AÑOS DE CONSTRUCCIÓN: 447 y 432 a.C. ___ 1500 y 1540 d.C. ___ 1447 y 1432 d.C. ___</p> <p>ESTILO ARTÍSTICO: Románico ___ Gótico ___ Clásico, orden dórico ___</p>
	<p>NOMBRE DE LA OBRA El Moisés ___ El Discóbolo ___ El David ___</p> <p>AUTOR Rafael ___ Miguel Ángel ___ Mirón ___</p> <p>ESTILO ARTÍSTICO Barroco ___ Clásico ___ Renacimiento ___</p>



	<p>NOMBRE DE LA OBRA: Catedral de Burgos ___ Catedral de Murcia ___ Catedral de Santiago de Compostela ___</p> <p>SIGLOS DE CONSTRUCCIÓN: XIX ___ X y XI ___ XVIII ___</p> <p>ESTILO ARTÍSTICO: Barroco ___ Gótico ___ Modernista ___</p>
	<p>NOMBRE DE LA OBRA: La Tempestad ___ Los Fusilamientos del Tres de Mayo ___ La Junta de Filipinas ___</p> <p>AUTOR: Francisco de Goya ___ Delacroix ___ Pablo Picasso ___</p> <p>ESTILO ARTÍSTICO: Cubismo ___ Romanticismo ___ Expresionismo ___</p>

13. CLASIFIQUE LOS SIGUIENTES INSTRUMENTOS: clarinete, bandurria, saxofón, maracas, violonchelo, oboe, timbales, contrabajo, xilófono y castañuelas (1 punto) (cada respuesta correcta 0,1 punto):

DE PERCUSIÓN	DE CUERDA	DE VIENTO



OPCIÓN B

10. ¿A qué comunidad autónoma pertenecen estas provincias? (2 puntos) (cada respuesta correcta 0,2 puntos):

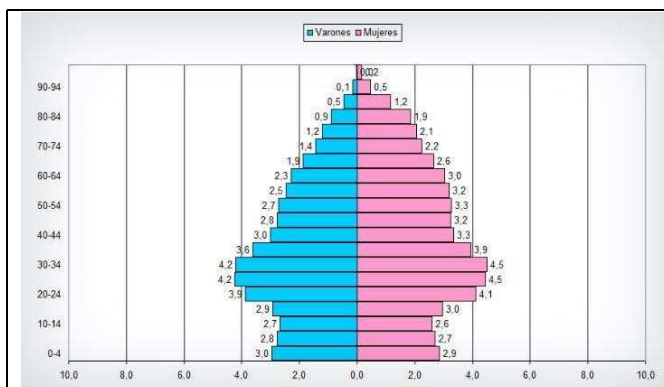
PROVINCIA	COMUNIDAD AUTÓNOMA
Sevilla	
Castellón	
Lugo	
Tarragona	
Albacete	
Tenerife	
Álava	
Cáceres	
Segovia	
Oviedo	

11. Relacione cada obra con su autor, escribiendo el número que corresponda en cada caso (1 punto) (cada respuesta correcta 0,2 puntos):

OBRA
1. El lago de los cisnes
2. Aida
3. Las cuatro estaciones
4. Claro de luna
5. Misa de Réquiem

Nº	AUTOR
	Vivaldi
	Tchaikovski
	Mozart
	Beethoven
	Verdi




12. Observe esta pirámide de población y conteste las siguientes preguntas (2 puntos) (cada respuesta correcta 0,5 puntos):



- a) ¿Cuál es la forma de la pirámide?
- b) ¿Qué grupo de la población es el que predomina en ella?
- c) ¿Cómo es la natalidad de la población, mortalidad y esperanza de vida?
- d) ¿A qué tipo de países corresponde esta pirámide?



13. Señale con una cruz la respuesta correcta de las siguientes obras artísticas: (3 puntos)
(cada respuesta correcta 0,25 puntos):

	<p>NOMBRE DE LA OBRA: Guernica ___ Los Relojes Blandos ___ Las Meninas ___</p> <p>AUTOR: Dalí ___ Picasso ___ Juan Gris ___</p> <p>ESTILO ARTÍSTICO: Cubismo ___ Expresionismo ___ Impresionismo ___</p>
	<p>NOMBRE DE LA OBRA: El Pensador ___ El Moisés ___ El David ___</p> <p>AUTOR: Leonardo da Vinci ___ Velázquez ___ Miguel Ángel ___</p> <p>ESTILO ARTÍSTICO: Renacimiento ___ Barroco ___ Clásico ___</p>
	<p>NOMBRE DE LA OBRA: Las Señoritas de Avignon ___ Las Meninas ___ Las Tres Gracias ___</p> <p>AUTOR: Rembrandt ___ Velázquez ___ Rubens ___</p> <p>ESTILO ARTÍSTICO: Renacimiento ___ Barroco ___ Clásico ___</p>



Región de Murcia

Consejería de Educación y Cultura

Dirección General de Innovación Educativa
y Atención a la Diversidad



NOMBRE DE LA OBRA:

Mezquita de Córdoba _____

Mezquita de Málaga _____

La Alhambra de Granada _____

PERIODO HISTÓRICO:

Edad Antigua _____

Edad Moderna _____

Edad Media _____

ESTILO ARTÍSTICO:

Gótico _____

Romano _____

Árabe _____