

**PRUEBA LIBRE PARA LA OBTENCIÓN DIRECTA DEL TÍTULO DE
GRADUADO EN EDUCACIÓN SECUNDARIA OBLIGATORIA
SEPTIEMBRE 2020**

FORMACIÓN BÁSICA DE PERSONAS ADULTAS
Orden de 19 de julio de 2017, por la que se desarrolla el currículo de
Formación Básica de Personas Adultas en la Comunidad Autónoma de Canarias

EXAMEN DE CONOCIMIENTO SOCIAL

Nombre		Apellidos	
DNI/NIE/pasaporte		Fecha de nacimiento	
Dirección			
Provincia		Teléfono	

PUNTUACIÓN DEL EXAMEN
CALIFICACIÓN DE LA MATERIA

INSTRUCCIONES PARA LA REALIZACIÓN DEL EXAMEN

- Lea bien estas instrucciones antes de empezar. Si tiene alguna duda, pregunte.
- Rellene sus datos personales en la portada y en el encabezado de cada hoja.
- Lea con atención los enunciados de cada ejercicio.
- Realice la prueba con bolígrafo azul.
- Escriba con letra clara (no escriba en mayúsculas).
- No puede utilizar diccionario ni ningún dispositivo electrónico en este examen.
- Si tiene teléfono móvil, debe apagarlo o ponerlo en el modo avión.
- En cada ejercicio y apartado se refleja su valor.
- Antes de salir del aula deberá llamar al profesor o profesora que esté al cuidado y hacerle entrega de sus hojas de examen, aunque no lo haya realizado.



Nombre y apellidos

1) Indique si las siguientes afirmaciones son verdaderas (V) o falsas (F). (0,2 puntos por cada respuesta correcta)

	V/F
a. El proceso de hominización tiene que ver con la bipedestación, el desarrollo del pulgar oponible y el crecimiento del cráneo, entre otros.	
b. La Prehistoria comienza con la aparición de la escritura.	
c. La Prehistoria está conformada por la Edad de los Metales y el Paleolítico.	
d. El Paleolítico es el periodo más largo de la historia.	
e. El paso del nomadismo al sedentarismo ocurrió en la Grecia clásica.	
f. Los ríos eran las autopistas de la Historia Antigua.	
g. El ágora era la forma de plantación típica de la Grecia clásica.	
h. Los griegos vivían en democracia.	
i. La romana eran una sociedad igualitaria.	
j. La mitología era la religión de los griegos.	

Puntuación máx.: 2 puntos

2) Los países subdesarrollados cuentan con características muy significativas. Indique si las siguientes afirmaciones son verdaderas (V) o falsas (F).(0,1 puntos por cada respuesta correcta)

	V/F
a. Bajos ingresos por habitante	
b. Elevada tasa de crecimiento de la población	
c. Altos niveles de desempleo	
d. Bajos niveles de nutrición infantil	
e. Buena estructura sanitaria	
f. Alto índice de analfabetismo	



Nombre y apellidos

g. Distribución equitativa de la renta	
h. Educación de calidad para todos	
i. Alta desigualdad de género	
j. Poco índice de analfabetismo	

Puntuación máx.: 1 punto


3) Ordene cronológicamente los siguientes hechos históricos enumerándolos del 1 al 5, desde el más antiguo al más reciente. (0,20 puntos por cada respuesta correcta)

- a. Luteranismo: ____
- b. La Ilustración: ____
- c. Caída del Imperio Romano: ____
- d. Feudalismo: ____
- e. Picasso pinta el Guernica : ____

Puntuación máx.: 1 punto

4) Indique a qué estilo artístico corresponden las siguientes imágenes (0,5 puntos por cada respuesta correcta):


FOTO 1



<https://temasycomentariosartepaeg.blogspot.com/>

4.1. _____

FOTO 2



<https://creartehistoria.blogspot.com/>

4.2. _____

Puntuación máx.: 1 punto

5) Marque con una X la respuesta correcta entre las 3 que se ofrecen. (0,2 puntos por cada respuesta correcta):

1. La Edad Moderna comienza con:
- a. el descubrimiento de América.



Nombre y apellidos	
--------------------	--


- b. la I Guerra Mundial.
 - c. la caída del Imperio Romano.
2. ¿Cuál es el eje central del movimiento conocido como Humanismo?
- a. La verdad de las cosas depende de los sentimientos.
 - b. Se basa en los valores y dignidad individuales.
 - c. Cree que los hombres son mejores que las mujeres.
3. ¿Cuál de los siguientes es el paradigma científico de la Edad Moderna?
- a. El geocentrismo
 - b. El heliocentrismo
 - c. El relativismo
4. ¿Cuál es el nombre del movimiento cultural característico de la Edad Moderna?
- a. Barroco
 - b. Ilustración
 - c. Renacimiento
5. La Edad Moderna también es conocida por:
- a. la Revolución Industrial
 - b. los descubrimientos geográficos
 - c. la II Guerra Mundial
6. Un líder fascista de Europa fue:
- a. Napoleón
 - b. Franco
 - c. Cristóbal Colón
7. ¿Cuáles de los siguientes países fue colonia de España?
- a. Sáhara Occidental
 - b. Japón
 - c. Gambia
8. Durante la Segunda Revolución Industrial un logro fue:
- a. telégrafo
 - b. motor a vapor
 - c. imprenta
9. Los países implicados en la I Guerra Mundial:
- a. Eran unos pocos países europeos.
 - b. Eran todos los países europeos.
 - c. Participaron tanto países europeos como no europeos.
10. El movimiento obrero se fundamenta en la siguiente ideología:
- a. fascismo
 - b. marxismo
 - c. fijismo

Puntuación máx.: 2 puntos



Nombre y apellidos

6) Asocie las imágenes al estilo artístico que corresponda: surrealismo o impresionismo (0,5 puntos por cada respuesta correcta)



Fuente [https:// historia-arte.com](https://historia-arte.com)

Respuesta 6.1.: _____



Fuente [https:// historia-arte.com](https://historia-arte.com)

Respuesta 6.2.: _____

Puntuación máx.: 1 punto

7) Relacione los siguientes datos con el personaje indicado (0,2 puntos por cada respuesta correcta):

A	Científico más importante del siglo XX que descubrió la Teoría de la Relatividad.	Rosa Parks	1
B	Organizó la revolución cubana que produjo la caída del régimen de Fulgencio Batista.	Greta Thunberg	2
C	Abogada, escritora y política que luchó por los derechos de las mujeres en España en el s. XX.	Ada Colau	3
D	Dio inicio en 1955, en EEUU, al movimiento contra la segregación racial.	Einstein	4
E	Primera mujer en ocupar el puesto de alcaldesa en Barcelona en 2015.	Fidel Castro	5
F	Pronunció la siguiente frase: "Nunca eres demasiado pequeño para marcar la diferencia".	Clara Campoamor	6
G	Político y sindicalista que ejerció como presidente en Bolivia entre 2006 y 2019.	Evo Morales	7
H	Llevó a cabo la Perestroika en la antigua URSS.	Aung San Suu Kyi	8
I	Lideró la banda The Beatles que revolucionó el rock.	Mijail Gorbachov	9
J	Política birmana que lucha por la democratización de su país y fue Nobel de la Paz en 1991.	John Lennon	10

Respuestas:

1. ___ 2. ___ 3. ___ 4. ___ 5. ___ 6. ___ 7. ___ 8. ___ 9. ___ 10. ___

Puntuación máx.: 2 puntos