



**PRUEBA PARA LA OBTENCIÓN DEL TÍTULO DE GRADUADO EN EDUCACIÓN SECUNDARIA  
OBLIGATORIA DESTINADA A PERSONAS MAYORES DE DIECIOCHO AÑOS  
SEPTIEMBRE 2019**

DATOS DEL ASPIRANTE	CALIFICACIÓN
Apellidos: _____ Nombre: _____ DNI: _____ CEPA: _____	

**ÁMBITO SOCIAL**

**1. Localice los siguientes accidentes geográficos en el continente correspondiente.**  
*(3 puntos) (Cada respuesta correcta 0,2 puntos)*

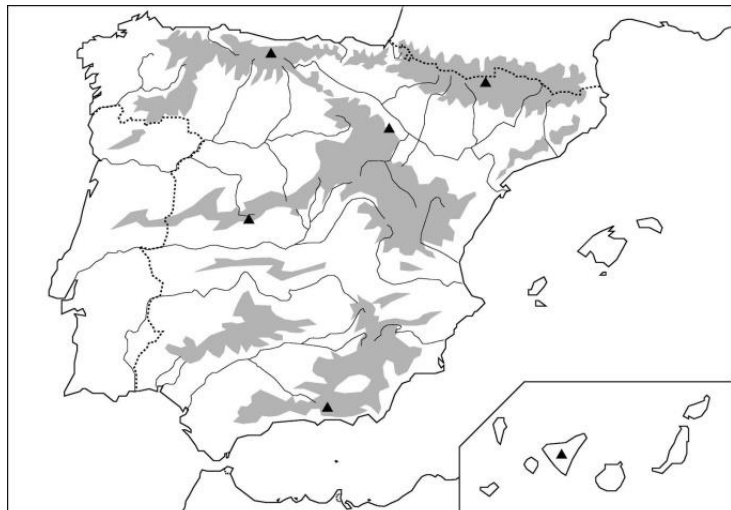
Río de la Plata	Península de Florida	Desierto de Gobi	Islas Filipinas
Río Po	Lago Victoria	Río Rhin	Bahía de Sydney
Península del Indostán	Tasmania	Mar Negro	Gran Desierto Victoria
Cabo de Buena Esperanza	Córcega	Pico del Kilimanjaro	

EUROPA	ASIA	ÁFRICA	AMÉRICA DEL NORTE	AMÉRICA CENTRAL Y DEL SUR	OCEANÍA

**2. Localice en cada mapa las siguientes provincias y accidentes geográficos (solo tiene que colocar los números correspondientes en los mapas).**

*(2 puntos) (Cada respuesta 0,125 puntos)*

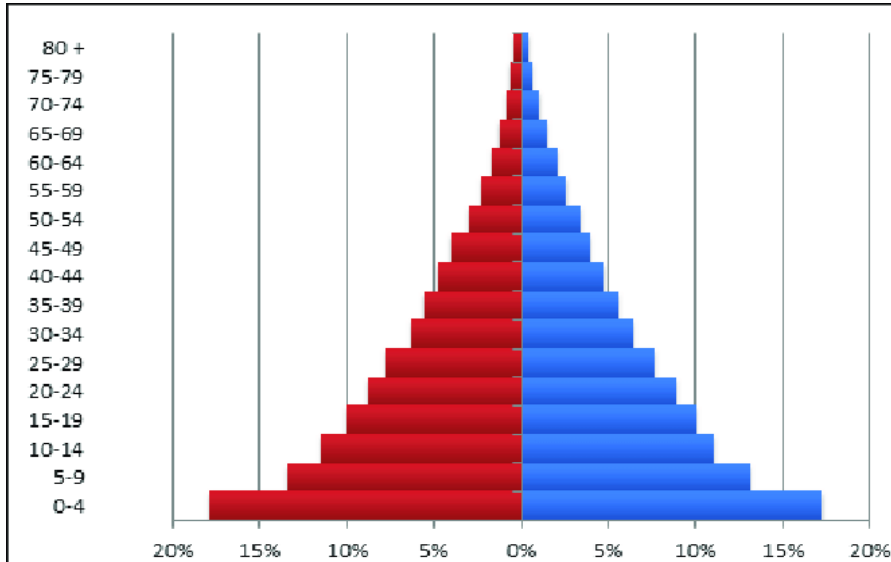
1. Asturias	2. Granada	3. Almería	4. Sevilla
5. Vizcaya	6. Segovia	7. Logroño	8. Pontevedra
9. Mulhacén	10. Sistema Ibérico	11. Cabo de Gata	12. Río Guadalquivir
13. Depresión del Ebro	14. Teide	15. Isla de Mallorca	16. Río Tajo





**3. Analice la siguiente pirámide de población y conteste a las preguntas.**

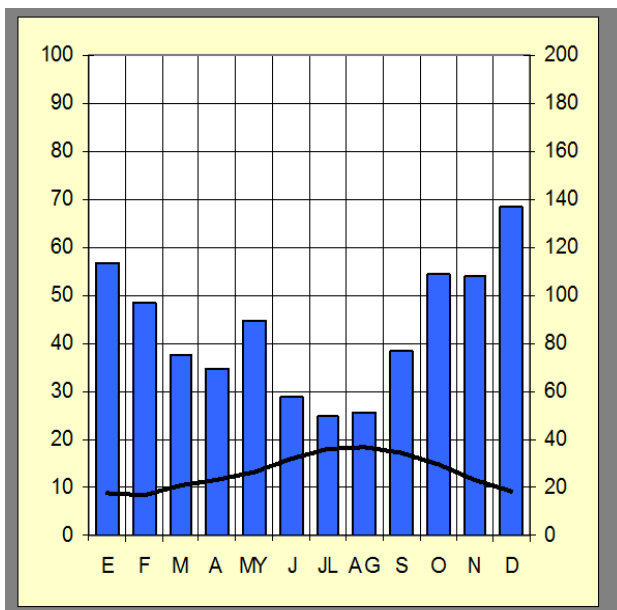
*(1 punto) (Cada respuesta correcta 0,25 puntos)*



- a) ¿Cuál es la forma de la pirámide y de qué tipo es? \_\_\_\_\_.
- b) ¿Qué tipo de población es la que predomina? \_\_\_\_\_.
- c) ¿Cómo es la natalidad de la población? \_\_\_\_\_.
- d) ¿A qué tipo de países corresponde esta pirámide? \_\_\_\_\_.

**4. Analice el siguiente climograma.**

*(1 punto) (Cada respuesta correcta 0,25 puntos)*



	E	F	M	A	MY	J	JL	AG	S	O	N	D	Media/pp total
°C	8,7	8,5	10,3	11,5	13,4	16,1	18,2	18,6	17,2	14,7	11,5	9,4	13,2
mm	114	97	75	70	90	58	50	51	77	109	108	137	1.035

- a) Temperaturas : \_\_\_\_\_  
 \_\_\_\_\_  
 \_\_\_\_\_
- b) Precipitaciones: \_\_\_\_\_  
 \_\_\_\_\_  
 \_\_\_\_\_
- c) Tipo de clima: \_\_\_\_\_  
 \_\_\_\_\_
- d) ¿En qué áreas geográficas de España encontramos este clima?  
 \_\_\_\_\_



**5. Escriba los siguientes conceptos junto a su definición.**

*(2 puntos) (Cada respuesta correcta 0,2 puntos)*

**Lago - Afluente - Delta - Latitud - Cabo - Meandro - Olas - Traslación - Mareas - Huso horario**

- a) Curva pronunciada en el curso de un río: \_\_\_\_\_.
- b) Sector esférico de 15°: \_\_\_\_\_.
- c) Parte de la tierra que penetra en el interior del mar: \_\_\_\_\_.
- d) Río que termina en otro río: \_\_\_\_\_.
- e) Ondulaciones de la superficie del agua del mar, provocadas por el viento: \_\_\_\_\_.
- f) Masa de agua permanente y rodeada de tierra: \_\_\_\_\_.
- g) Triángulo pantanoso que forman algunos ríos al desembocar en el mar: \_\_\_\_\_.
- h) Subidas y bajadas del nivel del mar que se observan en la costa: \_\_\_\_\_.
- i) Movimiento de la Tierra alrededor del sol: \_\_\_\_\_.
- j) Distancia entre cualquier punto de la superficie terrestre y el Ecuador: \_\_\_\_\_.

**6. Coloque las siguientes actividades económicas en el sector que corresponda.**

*(1 punto) (Cada respuesta correcta 0,1 puntos)*

**Educación - Cultivo de maíz - Elaboración de quesos - Fabricación de calzado  
 Venta de vehículos - Pesca - Ganadería - Medicina - Turismo rural - Asesoría laboral**

PRIMARIO	SECUNDARIO	TERCIARIO

**7. Rodee con un círculo la respuesta correcta.**

*(4 puntos) (Cada respuesta 0,33 puntos)*

- A. El proteccionismo defiende que un país debe:
  - a) Limitar las importaciones.
  - b) Eliminar barreras aduaneras y favorecer el comercio.
  - c) Eliminar las subvenciones a la producción interior.
- B. ¿Cómo podríamos definir necesidad?
  - a) Sensación de carencia de algo unida al deseo de tenerlo.
  - b) Carencia de algo.
  - c) Deseo incontrolable.
- C. ¿Qué es el coste de oportunidad?
  - a) Es aquello a lo que renunciamos cuando tomamos una decisión económica.
  - b) Es el coste monetario.
  - c) Es el coste que no se puede recuperar.
- D. En un préstamo, el prestatario es:
  - a) La empresa o persona que concede el préstamo.
  - b) La empresa o persona que recibe el préstamo.
  - c) La entidad financiera.



- E. Para identificar una cuenta bancaria se emplea:  
a) Número de cuenta.  
b) El IBAN.  
c) Extracto bancario.
- F. La función de la empresa es:  
a) Comprar bienes y servicios.  
b) Producir bienes y servicios.  
c) Consumir bienes y servicios.
- G. El capital físico de una empresa está formado por:  
a) Maquinaria e instalaciones.  
b) Recursos monetarios.  
c) Conocimientos de los trabajadores.
- H. El crédito comercial lo consigue una empresa cuando:  
a) Realiza una ampliación de capital.  
b) El banco le adelanta el dinero.  
c) Los proveedores dejan sus mercancías sin cobrar durante 30, 60 o 90 días.
- I. Si la oferta sube:  
a) Los precios suben.  
b) Los precios se quedan igual.  
c) Los precios bajan.
- J. Para financiar el déficit público, los estados pueden:  
a) Disminuir la cantidad de dinero en circulación.  
b) Emitir deuda pública.  
c) Devolver deuda pública.
- K. En un ciclo económico, en la recesión:  
a) Aumenta el PIB y la renta.  
b) El PIB disminuye y aumenta el paro.  
c) Crece el consumo.
- L. ¿Qué es el precio oficial del dinero?  
a) Tipo de interés al que el banco central de cada país presta dinero a la banca privada.  
b) El precio de las hipotecas.  
c) La Tasa Anual Equivalente (TAE).

**8. Rodee con un círculo la respuesta correcta.**

**(3 puntos) (Cada respuesta correcta 0,3 puntos)**

- A. La invención de la escritura dio paso:  
a) Del Paleolítico al Neolítico.  
b) De la Edad Antigua a la Edad Moderna.  
c) De la Prehistoria a la Historia.
- B. El Paleolítico se caracterizó por:  
a) Las sociedades de cazadores y recolectores.  
b) Las sociedades de agricultores y ganaderos.  
c) El uso de la piedra pulimentada.
- C. La primera civilización mesopotámica fue:  
a) La civilización egipcia.  
b) La civilización sumeria.  
c) La civilización acadia.
- D. Un hipogeo es:  
a) Una tumba egipcia excavada en la roca.  
b) Un tipo de templo egipcio.  
c) Un templo mesopotámico.



- E. Se le considera autor de las obras literarias “La Iliada” y “La Odisea”:  
a) Aristóteles.  
b) Homero.  
c) Séneca.
- F. La Guerra del Peloponeso tuvo lugar entre:  
a) Corinto y Esparta.  
b) Atenas y Esparta.  
c) Griegos y persas.
- G. Las guerras médicas fueron aquellas que enfrentaron a:  
a) Macedonios y griegos.  
b) Griegos y persas.  
c) Atenienses y espartanos.
- H. ¿Cómo llamaron los romanos a la Península Ibérica?  
a) Hispania.  
b) Lusitania.  
c) Dalmacia.
- I. ¿Dónde vivían los íberos?  
a) Oeste de la Península Ibérica.  
b) Sur y este de la Península Ibérica.  
c) Norte de la Península Ibérica.
- J. El imperio romano de occidente finaliza en el año:  
a) 476.  
b) 376.  
c) 404.

**9. Relacione los términos de ambas columnas.**

**(1 punto) (Cada respuesta correcta 0,2 puntos)**

Nomadismo		a) Paleolítico
Zigurat		b) Roma
Agricultura		c) Mesopotamia
Keops, Kefrén y Micerino		d) Neolítico
Termas y anfiteatros		e) Egipto

**10. Indique si las siguientes afirmaciones son verdaderas (V) o falsas (F).**

**(1 punto) (Cada respuesta correcta 0,2 puntos)**

- a) En la Guerra Fría la URSS lideraba el bloque occidental-capitalista:\_\_\_\_\_.
- b) Los mozárabes eran cristianos que habían aceptado la religión musulmana:\_\_\_\_\_.
- c) La Edad Moderna comienza con la Revolución francesa:\_\_\_\_\_.
- d) El Estatuto de Autonomía de la Región de Murcia fue promulgado en 1982:\_\_\_\_\_.
- e) La proclamación de la II República española tuvo lugar el 14 de abril de 1932:\_\_\_\_\_.



**11. Sitúe cada personaje o acontecimiento histórico en la etapa a la que corresponde.**  
**(2 puntos) (Cada respuesta correcta 0,2 puntos)**

Napoléon Bonaparte  
Guerra de Vietnam  
Edad de Hierro  
Felipe II

Carlos III  
Carlomagno  
Benito Mussolini

Guerra de los Cien Años  
Alejandro Magno  
Hammurabi

PREHISTORIA	EDAD ANTIGUA	EDAD MEDIA	EDAD MODERNA	EDAD CONTEMPORÁNEA

**12. Rodee con un círculo la respuesta correcta.**  
**(3 puntos) (Cada respuesta correcta 0,25 puntos)**

- A. La batalla de Lepanto enfrentó a una coalición de fuerzas cristianas contra:  
a) Los turcos.  
b) Portugal.  
c) Inglaterra.
- B. Felipe V fue el primer rey de España de la dinastía:  
a) De los Austria.  
b) De los Trastámara.  
c) De los Borbones.
- C. ¿Contra qué país luchó España en la Guerra de la Independencia?  
a) Alemania.  
b) Francia.  
c) Inglaterra.
- D. ¿Quién conquista el Reino de Murcia en el siglo XIII?  
a) Alfonso I el Batallador.  
b) Alfonso X el Sabio.  
c) Pedro I El Cruel.
- E. En el siglo XIV se produce una crisis económica y demográfica debido a la:  
a) Peste bubónica.  
b) Gripe española.  
c) Cólera.
- F. ¿Qué es la Reforma?  
a) Un movimiento político que cambia el Estado.  
b) Un movimiento religioso para reformar dogmas e interpretación de la Biblia.  
c) Un movimiento religioso que lo inicia el Papa.
- G. El liberalismo económico defiende:  
a) La intervención del Estado frente a la libertad económica.  
b) La propiedad colectiva de los medios de producción.  
c) La libertad económica frente a la intervención del Estado.
- H. La rebelión de las colonias americanas se inicia con:  
a) La Guerra de los 7 Años.  
b) Motín del Té.  
c) Toma de la Bastilla.




- I. ¿Qué sistema político se instauró en España con el reinado de Isabel II?
- a) Monarquía absoluta.
  - b) Monarquía liberal.
  - c) República.
- J. El objetivo del anarquismo es:
- a) La dictadura del proletariado.
  - b) Eliminación del Estado.
  - c) Creación de partidos políticos.
- K. El crack de 1929 lo originó:
- a) El descenso del comercio internacional
  - b) El establecimiento del New Deal.
  - c) La caída de la Bolsa de Nueva York.
- L. El golpe de estado del 23 de febrero de 1981 tuvo lugar bajo el gobierno de:
- a) UCD.
  - b) PSOE.
  - c) PP.

13. Identifique cada elemento arquitectónico con su imagen.

(1 punto) (Cada respuesta correcta 0,2 puntos)

1	2	3	4	5

1.



A. Tímpano románico

2.



B. Arbotantes

3.



C. Bóveda de cañón




4.



D. Capitel de orden dórico

5.



E. Arco apuntado

14. Señale con una cruz la respuesta correcta relativa a las siguientes obras artísticas.  
(3 puntos) (Cada respuesta correcta 0,25 puntos)



**NOMBRE DE LA OBRA:**

- a) Dama de Baza \_\_\_\_
- b) Dama de Elche \_\_\_\_
- c) Gran Dama Oferente \_\_\_\_

**ESTILO ARTÍSTICO:**

- a) Arte Rupestre \_\_\_\_
- b) Arte Ibérico \_\_\_\_
- c) Arte Romano \_\_\_\_

**PERIODO HISTÓRICO:**

- a) Paleolítico \_\_\_\_
- b) Edad Moderna \_\_\_\_
- c) Edad Antigua \_\_\_\_





**NOMBRE DE LA OBRA:**


- a) El David \_\_\_\_\_
- b) El Juicio Final \_\_\_\_\_
- c) La Creación de Adán \_\_\_\_\_

**AUTOR:**

- a) Miguel Ángel \_\_\_\_\_
- b) Diego Velázquez \_\_\_\_\_
- c) Rafael \_\_\_\_\_

**ESTILO ARTÍSTICO:**

- a) Renacimiento \_\_\_\_\_
- b) Barroco \_\_\_\_\_
- c) Realismo \_\_\_\_\_



**NOMBRE DE LA OBRA:**

- a) Los amantes \_\_\_\_\_
- b) El beso \_\_\_\_\_
- c) Los amantes de Teruel \_\_\_\_\_

**AUTOR:**

- a) Bellver \_\_\_\_\_
- b) Benlliure \_\_\_\_\_
- c) Rodin \_\_\_\_\_

**ESTILO ARTÍSTICO:**

- a) Impresionismo \_\_\_\_\_
- b) Pop Art \_\_\_\_\_
- c) Surrealismo \_\_\_\_\_



**MATERIAL UTILIZADO:**

- a) Mármol \_\_\_\_\_
- b) Madera policromada \_\_\_\_\_
- c) Lienzo \_\_\_\_\_

**ESTILO ARTÍSTICO:**

- a) Románico \_\_\_\_\_
- b) Gótico \_\_\_\_\_
- c) Barroco \_\_\_\_\_

**PERIODO HISTÓRICO:**

- a) Entre el siglo V y el XV \_\_\_\_\_
- b) Entre el siglo XVI y el siglo XVIII \_\_\_\_\_
- c) Entre 3500 a.C. y el año 476 d.C. \_\_\_\_\_



**15. Relacione cada autor con su obra, escribiendo el número correspondiente en los cuadros en blanco.**  
*(1 punto) (Cada respuesta correcta 0,2 puntos)*

a) Paco de Lucía	Concierto de Aranjuez	
b) Maestro Rodrigo	El Lago de los Cisnes	
c) Tchaikovski	Las Cuatro Estaciones	
d) Vivaldi	Aída	
e) Verdi	Entre dos aguas	

**16. Clasifique los siguientes instrumentos musicales según la familia a la que pertenezcan.**  
*(1 punto) (Cada respuesta correcta 0,1 puntos)*

**Clarinete - Bandurria - Saxofón - Maracas - Violonchelo  
Oboe - Timbales - Contrabajo - Xilófono - Castañuelas**

PERCUSIÓN	VIENTO	CUERDA