

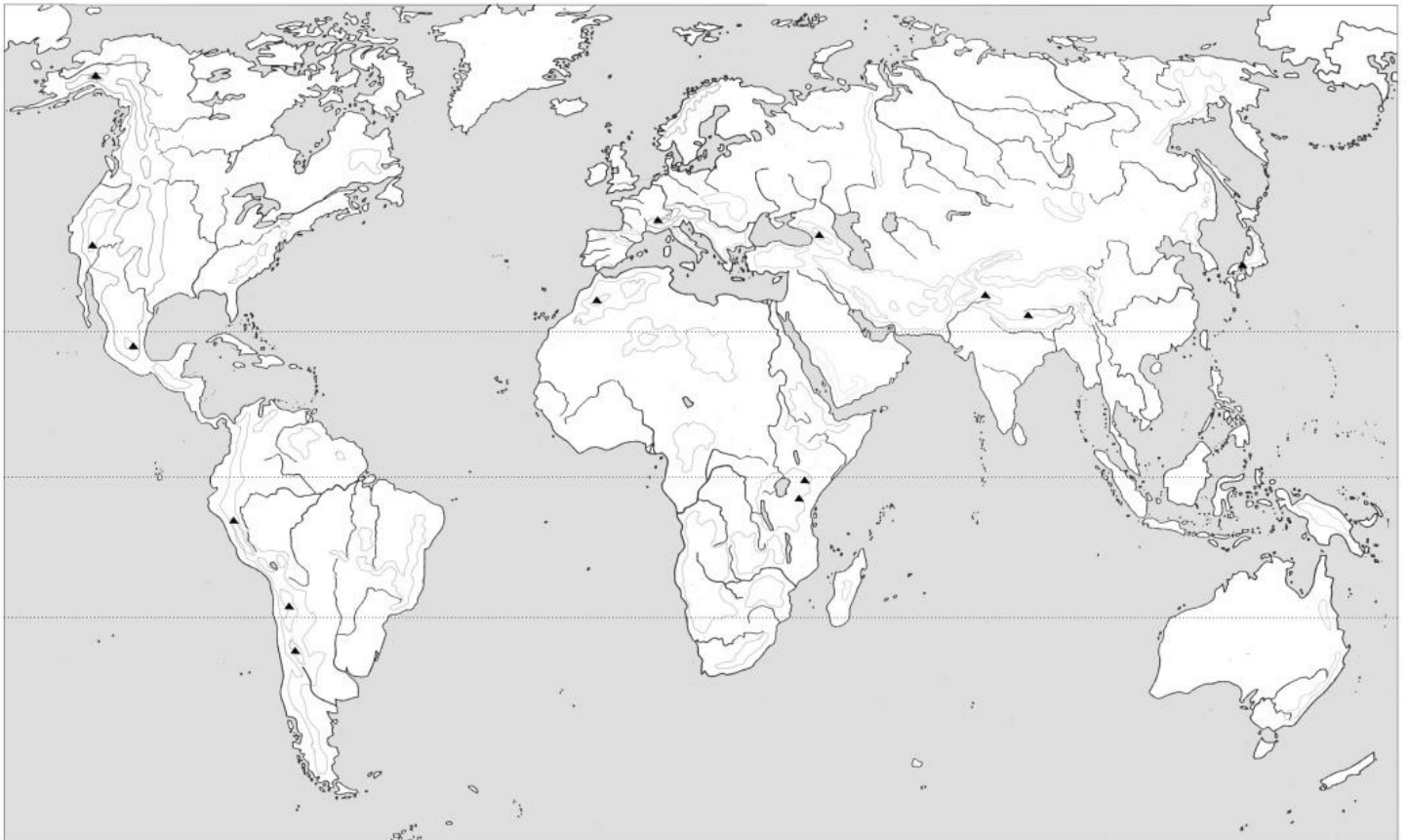


**PRUEBA PARA LA OBTENCIÓN DEL TÍTULO DE GRADUADO EN EDUCACIÓN SECUNDARIA
OBLIGATORIA DESTINADA A PERSONAS MAYORES DE DIECIOCHO AÑOS
JUNIO 2019**

DATOS DEL ASPIRANTE	CALIFICACIÓN
Apellidos: _____	
Nombre: _____ DNI: _____	
Centro: _____	

ÁMBITO SOCIAL

1. Localice en el mapa mudo usando los números correspondientes a cada término.
(3 puntos) (Cada respuesta 0,2 puntos)



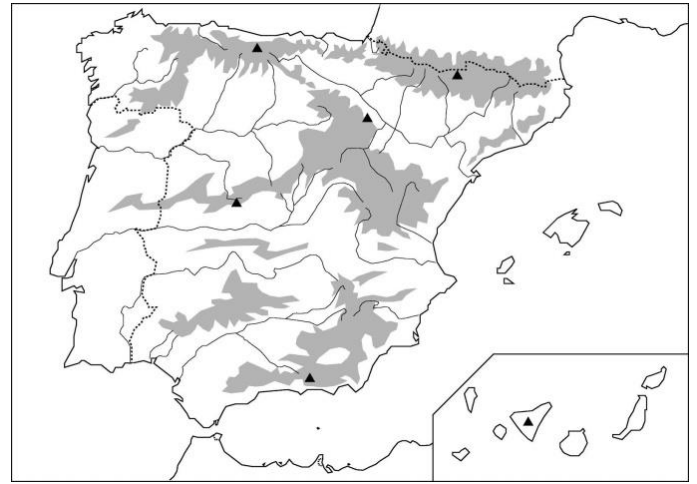
1. Montañas Rocosas	2. Río Amazonas	3. Río Nilo	4. Australia	5. África
6. Cordillera del Himalaya	7. Océano Atlántico	8. Montes Cárpatos	9. Península Ibérica	10. Mar Mediterráneo
11. Cordillera de los Andes	12. Montes Urales	13. Isla de Madagascar	14. Península Arábiga	15. Océano Índico



2. Localice en cada mapa las siguientes provincias y accidentes geográficos (solo tiene que colocar los números correspondientes en los mapas).

(2 puntos) (Cada respuesta 0,125 puntos)

1. Sevilla	2. Alicante	3. Lugo	4. Tarragona
5. Albacete	6. Cádiz	7. Álava	8. Badajoz
9. Río Guadiana	10. Río Duero	11. Río Ebro	12. Sierra Morena
13. Mar Cantábrico	14. Sistema Central	15. Pirineos	16. Cabo de Finisterre



3. Rodee con un círculo la respuesta correcta.

(2 puntos) (Cada respuesta 0,2 puntos)

- A. Una cordillera que destaca en el relieve europeo es:
- a) Cordillera del Atlas.
 - b) Montes Apalaches.
 - c) Cordillera de los Alpes.
- B. ¿En qué océano desembocan los ríos más largos de América?
- a) En el Pacífico.
 - b) En el Atlántico.
 - c) En el Índico.
- C. ¿Cuál de estos ríos no se encuentra en el continente africano?
- a) Níger.
 - b) Nilo.
 - c) Orinoco.
- D. ¿En qué hemisferio se encuentra la Antártida?
- a) Sur.
 - b) Este.
 - c) Norte.
- E. ¿Cómo se llama el estrecho que separa los continentes de Asia y América?
- a) Estrecho de Magallanes.
 - b) Estrecho de Gibraltar.
 - c) Estrecho de Bering.
- F. El movimiento de la Tierra sobre su propio eje se llama:
- a) Rotación.
 - b) Translación.
 - c) Órbita.



G. ¿Cuál es el planeta del Sistema Solar más cercano al Sol?

- a) Saturno.
- b) Marte.
- c) Mercurio.

H. Varias islas agrupadas forman:

- a) Península.
- b) Archipiélago.
- c) Albufera.

I. ¿Qué es la latitud?

- a) Es la distancia que hay desde los polos al Ecuador.
- b) Es la distancia entre dos puntos de la Tierra.
- c) Es la distancia que hay desde un lugar concreto al Ecuador.

J. ¿Qué es una vertiente fluvial?

- a) Un conjunto de ríos que desembocan en el mismo mar.
- b) Las tierras por las que discurre el río.
- c) Territorio cuyas aguas afluyen al mismo río.

4. Rodee con un círculo la respuesta correcta.

(4 puntos) (Cada respuesta 0,33 puntos)

A. ¿Qué es la deslocalización de la producción?

- a) Trasladar las empresas desde los países desarrollados hacia países en vías de desarrollo.
- b) Trasladar las empresas hacia países desarrollados.
- c) Cambio de residencia de los trabajadores de las empresas.

B. ¿Qué es la exportación?

- a) Intercambio de bienes y servicios dentro de un mismo país.
- b) Entrada de bienes y servicios en un país.
- c) Salida de bienes y servicios hacia otro país.

C. ¿Qué diferencia existe entre bienes y servicios?

- a) Los bienes son materiales y los servicios inmateriales.
- b) Los bienes son inmateriales y los servicios materiales.
- c) No existe ninguna diferencia.

D. Los agentes económicos son:

- a) Familias, Empresas y Estado o sector público.
- b) Las Industrias, Comercios y Servicios.
- c) El Sector Privado y el Sector Público.

E. ¿Quién dirige y controla la economía en un sistema socialista?

- a) El mercado.
- b) La ley de la oferta y la demanda.
- c) El Estado.

F. ¿Qué es el avalista?

- a) La garantía del préstamo.
- b) El bien empleado como garantía del préstamo.
- c) La persona que se compromete a pagar el préstamo si el cliente no puede.

G. En una tarjeta de débito:

- a) El pago es aplazado.
- b) El pago es al contado.
- c) Podemos elegir el número de meses en los que queremos saldar la deuda.



- H. Para constituir una sociedad limitada se exige:
- a) Capital mínimo de 60.000 €.
 - b) No se requiere capital mínimo.
 - c) Capital mínimo de 3.000 €.
- I. ¿Cómo se calcula los beneficios de una empresa?
- a) A los ingresos totales se le resta los costes totales.
 - b) Los ingresos se multiplican por los costes totales.
 - c) A los costes fijos se le restan los costes variables.
- J. Cuando compramos un paquete de tabaco pagamos este tipo de impuesto:
- a) Impuesto sobre el Patrimonio.
 - b) Impuesto sobre Sociedades.
 - c) Especiales.
- K. La causa de la hiperinflación es:
- a) Una emisión excesiva de dinero.
 - b) Un incremento del desempleo.
 - c) Una bajada brusca de los precios.
- L. ¿Qué es el coeficiente de caja?
- a) Porcentaje de efectivo que los bancos están obligados a destinar a obras sociales.
 - b) Porcentaje de efectivo que las entidades financieras están obligadas a mantener en el banco.
 - c) Porcentaje de efectivo que los bancos están obligados a comprar de deuda pública.

5. Escriba el concepto que define cada una de las siguientes frases. (2 puntos) (Cada respuesta 0,2 puntos)

- a) Envoltura gaseosa que rodea la Tierra: _____.
- b) Astro que gira alrededor de un planeta: _____.
- c) Líneas imaginarias que unen puntos de igual temperatura: _____.
- d) Número de nacimientos que se producen en un lugar durante un periodo de tiempo: _____.
- e) Diferencia entre el número de nacimientos y el número de defunciones: _____.
- f) Número de años que se espera que pueda vivir una persona: _____.
- g) Personas que salen de su país a residir en otro: _____.
- h) Aumento sostenido del nivel general de precios: _____.
- i) Entrada de bienes y servicios en un país: _____.
- j) Órgano de gobierno de los municipios: _____.

6. Indique qué sector económico (primario, secundario o terciario) incluiría las siguientes actividades. (1 punto) (Cada respuesta 0,1 punto)

- a) Agricultura en invernaderos: _____
- b) Pesca de marisco: _____
- c) Transporte de viajeros en ferrocarril: _____
- d) Fabricación de aviones: _____
- e) Venta de maquinaria industrial: _____



- f) Industria del acero: _____
- g) Enseñanza secundaria: _____
- h) Elaboración de vinos: _____
- i) Hostelería: _____
- j) Fabricación de teléfonos móviles: _____

7. Complete el texto con las siguientes palabras:

**Magistrados – Poder Legislativo – Poder Judicial – Senado – Poder Ejecutivo
Leyes – Presidente – Jueces – Congreso de los Diputados – Ministros**

(1 punto) (Cada respuesta 0,1 punto)

- a) Las Cortes Generales poseen el _____, es decir, elaboran las _____.
Están formadas por dos cámaras: el _____ y el _____.
- b) El Gobierno posee el _____, hace que se cumplan las leyes. El Gobierno
está formado por el _____ y los _____.
- c) El encargado de vigilar el cumplimiento de las leyes es el _____. Se
compone de _____ y _____.

8. Indique si las siguientes afirmaciones son verdaderas (V) o falsas (F).

(2 puntos) (Cada respuesta 0,2 puntos)

- a) España es uno de los países fundadores de la Comunidad Económica Europea (CEE). _____
- b) Actualmente existen 28 países miembros de la Unión Europea. _____
- c) El Parlamento Europeo ejerce el poder legislativo en la Unión Europea. _____
- d) La esperanza de vida en España es de las más bajas de la Tierra. _____
- e) Una de las consecuencias del efecto invernadero es la disminución global de la temperatura del planeta. ____
- f) La Asamblea Regional de Murcia tiene su sede en Cartagena. _____
- g) El Consejo de Gobierno de Murcia está compuesto por los alcaldes de los ayuntamientos de la Región. ____
- h) La población de un país es joven si tiene altas tasas de natalidad. _____
- i) España se rige por la Constitución de 1988. _____
- j) El banco responsable de la política monetaria de la Eurozona es el Banco Central Europeo. _____

9. Rodee con un círculo la respuesta correcta.

(3 puntos) (Cada respuesta 0,3 puntos)

- A. El Dolmen era:
 - a) Una piedra clavada verticalmente en el suelo.
 - b) Grandes piedras verticales que sostienen unas losas de cobertura.
 - c) Piedras verticales y losas horizontales dispuestas en círculo.
- B. Tumba egipcia excavada en la roca y que no se aprecia desde el exterior:



- a) Mastaba.
- b) Pirámide.
- c) Hipogeo.
- C. Los reyes egipcios se llamaban:
 - a) Emperadores.
 - b) Faraones.
 - c) Cónsules.
- D. ¿Cuál fue la primera escritura mesopotámica?
 - a) Jeroglífica.
 - b) Cuneiforme.
 - c) Hierática.
- E. Los fundadores de Cartagena fueron los:
 - a) Griegos.
 - b) Fenicios.
 - c) Cartagineses.
- F. En el Neolítico, los hombres se convierten en:
 - a) Nómadas.
 - b) Agricultores y ganaderos sedentarios.
 - c) Depredadores, se alimentaban de lo que cazaban.
- G. Las Guerras Médicas fueron aquellas que enfrentaron a:
 - a) Macedonios y griegos.
 - b) Griegos y persas.
 - c) Atenenses y espartanos.
- H. Derrotó al imperio persa y formó un imperio que llegó a la India:
 - a) Pericles.
 - b) Filipo II de Macedonia.
 - c) Alejandro Magno.
- I. La arquitectura romana empleó:
 - a) El mortero.
 - b) El adobe.
 - c) La cerámica vidriada.
- J. ¿Quién fue el primer emperador romano?
 - a) Nerón.
 - b) Teodosio.
 - c) Augusto.

10. Sitúe cada personaje o acontecimiento histórico en la etapa a la que corresponde.

(2 puntos) (Cada respuesta 0,2 puntos)

- Enciclopedia.
- Guerra del Peloponeso.
- Máquina de vapor.
- Feudalismo.
- Califato de Córdoba.
- Movimiento obrero.
- Edad de los Metales.
- Revolución rusa.
- Guerras Púnicas.
- Batalla de Lepanto.

PREHISTORIA	EDAD ANTIGUA	EDAD MEDIA	EDAD MODERNA	EDAD CONTEMPORÁNEA



11. Relacione los siguientes personajes con los acontecimientos o conceptos históricos de la tabla.
(2 puntos) (Cada respuesta 0,2 puntos)

Manuel Azaña	Martín Lutero	Adolfo Suárez	Simón Bolívar	Karl Marx
Isabel I de Castilla	George Washington	Felipe V	Bismarck	Napoleón Bonaparte

CONCEPTOS/ACONTECIMIENTOS HISTÓRICOS	PERSONAJE
Independencia de las colonias españolas	
II República española	
Socialismo	
Independencia de Estados Unidos	
Transición española	
Protestantismo	
Revolución francesa	
Conquista de Granada	
Llegada de los Borbones	
Unificación alemana	

12. Señale con una cruz la respuesta correcta acerca de las siguientes obras artísticas.
(3 puntos) (Cada respuesta 0,25 puntos)



NOMBRE DE LA OBRA:

Catedral Notre Dame de Paris ____
Catedral de Murcia ____
Catedral de Santiago de Compostela ____

SIGLOS DE CONSTRUCCIÓN:

XII, XIII y XIV ____
IX, X y XI ____
XIV, XV y XVI ____

ESTILO ARTÍSTICO:

Románico ____
Gótico ____
Modernista ____



NOMBRE DE LA OBRA:

Las Segadoras _____
Las Hilanderas _____
Fábula de María _____

AUTOR:

Goya _____
Velázquez _____
El Greco _____

ESTILO ARTÍSTICO:

Impresionismo _____
Barroco _____
Renacimiento _____



TEMÁTICA:


Historia _____
Mitología _____
Mágica-Religiosa _____

ESTILO ARTÍSTICO:

Arte Helenístico _____
Arte Rupestre _____
Arte Románico _____

PERIODO HISTÓRICO:

Edad Antigua _____
Neolítico _____
Paleolítico _____



NOMBRE DE LA OBRA:

Las Meninas _____
Paseo por la Playa _____
Las Señoritas de Aviñón _____

AUTOR:

Velázquez _____
Picasso _____
Joaquín Sorolla _____

ESTILO ARTÍSTICO:

Renacimiento _____
Impresionismo _____
Neoclasicismo _____



13. Relacione cada obra con el estilo artístico al que pertenece.

(1 punto) (Cada respuesta 0,2 puntos)

Cuevas de Altamira, Partenón, El Nacimiento de Venus, Guernica, Catedral de Murcia

ESTILO ARTÍSTICO	OBRA
ARTE CLÁSICO	
ARTE RUPESTRE	
BARROCO	
RENACIMIENTO	
CUBISMO	

14. Coloca los siguientes instrumentos musicales en el cuadro:

(1 punto) (Cada respuesta 0,1 puntos)

Triángulo – Clarinete – Violonchelo – Trombón – Timbales –
Maracas – Piano - Violín - Xilófono - Platillos

PERCUSIÓN	CUERDA	VIENTO

15. Relacione cada autor con su obra (solo tiene que colocar los números en los cuadros en blanco).

(1 punto) (Cada una respuesta 0,2 puntos)

1) Bach	El Cascanueces	
2) Beethoven	La Flauta Mágica	
3) Mozart	Aida	
4) Tchaikovski	La Pasión según San Mateo	
5) Verdi	Sinfonía n.º 9 Oda a la Alegría	