



PRUEBA PARA LA OBTENCIÓN DEL TÍTULO DE GRADUADO EN EDUCACIÓN SECUNDARIA OBLIGATORIA DESTINADA A PERSONAS MAYORES DE DIECIOCHO AÑOS

SEPTIEMBRE 2018

DATOS DEL ASPIRANTE	CALIFICACIÓN
Apellidos: _____ Nombre: _____ DNI: _____ IES/CEPA: _____	

ÁMBITO SOCIAL

1. Localice los siguientes accidentes geográficos en el continente correspondiente: (3 puntos)

Río Orinoco	Río Amazonas	Desierto de Kalahari	Lago Victoria
Cordillera de Los Alpes	Península de Jutlandia	Desierto del Sáhara	Península de Yucatán
Mar Adriático	Estrecho de Magallanes	Mar Caribe	Río Senegal
Nueva Zelanda	Península Escandinava	Cabo de Hornos	Río Darling

EUROPA	ASIA	ÁFRICA	AMÉRICA DEL NORTE	AMÉRICA CENTRAL Y DEL SUR	OCEANÍA

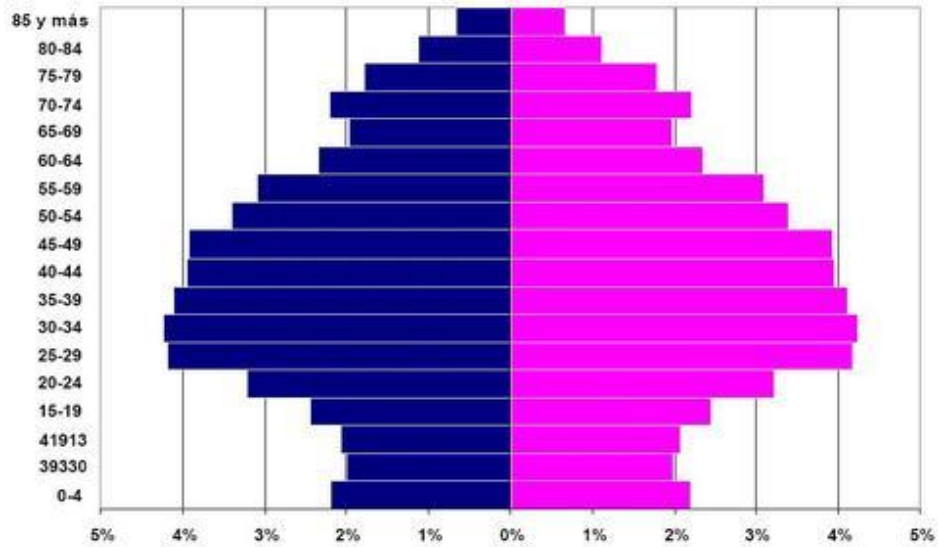
2. Sitúe en el mapa político y en el mapa físico de España las siguientes provincias y accidentes geográficos, respectivamente (sólo tiene que colocar el número en el mapa): (2 puntos)

1. Cáceres	2. Orense	3. Albacete	4. Córdoba
5. Cuenca	6. Lérida	7. León	8. Zaragoza
9. Río Guadiana	10. Río Duero	11. Río Ebro	12. Mar Cantábrico
13. Pirineos	14. Río Miño	15. Isla de Ibiza	16. Sierra Nevada





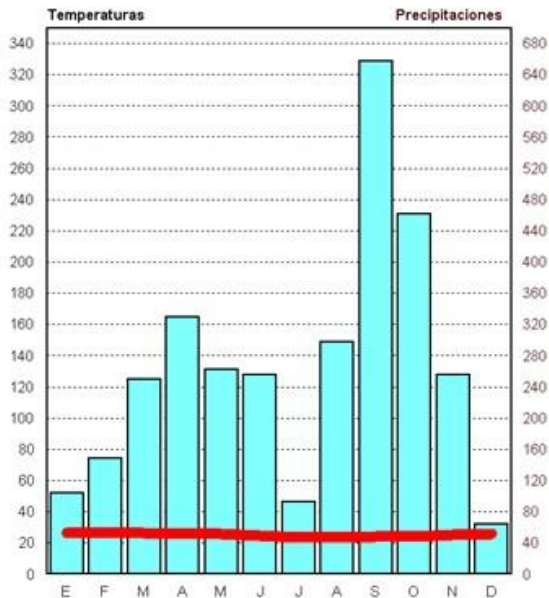
3. Analice la siguiente pirámide de población y conteste a las preguntas (2 puntos):



- a) ¿Cuál es la forma de la pirámide?.....
- b) ¿Qué grupo de población es el que predomina?.....
- c) ¿Cómo es la natalidad de la población?.....
- d) ¿A qué tipo de países corresponde esta pirámide?.....

4. Analice las temperaturas y las precipitaciones del siguiente climograma (2 puntos):

Tma 25,2° Pp 3176 mm.



- a) Temperaturas:.....
-
-
- b) Precipitaciones:.....
-
-
- c) Tipo de clima:.....
-
- d) Localización:.....
-

5. Escriba los siguientes conceptos junto a su definición: Latitud, Dorsal oceánica, Cabo, Isobaras, Traslación, Fosa marina, Paralelos, Satélite, Meseta, Huso horario (2 puntos)

- 1) Gran depresión submarina muy profunda.....
- 2) Sector esférico de 15°.....
- 3) Parte de la tierra que penetra en el interior del mar.....



- 4) Elevación del terreno plana.....
- 5) Astro que gira en torno a un planeta.....
- 6) Cordillera submarina muy extensa y alta.....
- 7) Movimiento de la Tierra alrededor del sol.....
- 8) Líneas que unen puntos que tienen igual presión atmosférica.....
- 9) Distancia entre cualquier punto de la superficie terrestre y el Ecuador.....
- 10) Círculos imaginarios perpendiculares el eje de la Tierra.....

6. Conteste las siguientes cuestiones, subrayando la respuesta correcta: (4 puntos)

- A. La búsqueda de trabajo en internet y en las redes sociales se conoce como:
 - a) Internet y empleo.
 - b) Métodos creativos de búsqueda de empleo.
 - c) Empleo 2.0.
- B. La licencia de apertura de una empresa:
 - a) Es un trámite opcional que no es obligatorio solicitar.
 - b) Se solicita en el ayuntamiento.
 - c) Es obligatorio si se contrata a trabajadores.
- C. El Impuesto sobre la Renta de las Personas Físicas:
 - a) Es un impuesto indirecto.
 - b) Es un impuesto directo y progresivo.
 - c) Es un impuesto trimestral.
- D. Señale el tipo de actividad que desarrolla el sector secundario:
 - a) Agrícola.
 - b) Servicios.
 - c) Industria.
- E. Los agentes económicos son:
 - a) Familias, Empresas y Estado o sector público.
 - b) Las Industrias, Comercios y Servicios.
 - c) El Sector Privado y el Sector Público.
- F. De las siguientes partidas, ¿cuáles representan ingresos para una familia?
 - a) Una factura.
 - b) Una nómina.
 - c) Un tique de compra.
- G. Tenemos un año de cotización cuando:
 - a) Trabajamos un año y ahorramos para ello.
 - b) Trabajamos ilegalmente, pero la Seguridad Social no se da cuenta.
 - c) Trabajamos un año legalmente, pero la Seguridad Social no se da cuenta.
- H. El capital mínimo necesario para constituir una Sociedad Anónima es de:
 - a) 60.101,21 euros.
 - b) 3.005,6 euros.
 - c) 2.500 euros.
- I. El umbral de rentabilidad de una empresa es:
 - a) La cifra de ventas que una empresa debe alcanzar para cubrir gastos.
 - b) La diferencia entre los ingresos y los gastos.
 - c) El valor monetario de los recursos utilizados para producir los bienes o servicios.
- J. El Impuesto sobre Sociedades:
 - a) Grava entre el 19 % y el 45 % de los ingresos de las empresas.
 - b) Grava el 25 % los beneficios de las empresas.
 - c) No lo pagan las Sociedades Anónimas, únicamente las Sociedades Limitadas.
- K. Se produce déficit público cuando:
 - a) Los ingresos del Estado no son suficientes para cubrir los gastos.



- b) El Estado emite deuda pública.
- c) Se aumenta el dinero en circulación.
- L. ¿Qué es la tasa de paro?
 - a) Cantidad de personas que no trabajan.
 - b) Porcentaje de parados con respecto a la población activa.
 - c) Es la diferencia entra la población activa y la población inactiva.

7. Conteste a las siguientes cuestiones, subrayando la respuesta correcta (3 puntos):

- A. Señale la opción que mejor describa la vida en el Paleolítico.
 - a) Eran sedentarios, practicaban la caza y la pesca, elaboraban instrumentos con metales y hacían pinturas rupestres.
 - b) Eran nómadas, practicaban la agricultura y la ganadería y también la caza y la recolección.
 - c) Eran nómadas, fabricaban instrumentos rudimentarios, practicaban la caza y la recolección, y utilizaban el fuego para distintos usos.
- B. Las etapas de la Prehistoria son:
 - a) Paleolítico y Edad de los Metales.
 - b) Paleolítico, Neolítico y Edad de los Metales.
 - c) Paleolítico Inferior, Medio y Superior.
- C. La civilización mesopotámica aparece.....:
 - a) Entre los ríos Tigris y Éufrates.
 - b) Junto al río Nilo.
 - c) Junto al río Ganges.
- D. La Gran Pirámide la construyó el faraón:
 - a) Ramsés II.
 - b) Keops.
 - c) Tutmosis I.
- E. Un dios del Antiguo Egipto fue:
 - a) Osiris.
 - b) Júpiter.
 - c) Apolo.
- F. La Guerra del Peloponeso tuvo lugar entre:
 - a) Corinto y Esparta.
 - b) Atenas y Esparta.
 - c) Griegos y persas.
- G. Los tres órdenes arquitectónicos griegos son:
 - a) Dórico, jónico y corintio.
 - b) Corintio, compuesto y jónico.
 - c) Dórico, jónico y ovalado.
- H. El organismo que dirigía la política exterior romana era:
 - a) Senado.
 - b) Los cónsules.
 - c) Los tribunos de la plebe.
- I. El emperador que dividió el Imperio romano en dos mitades fue:
 - a) Constantino.
 - b) Marco Aurelio.
 - c) Teodosio.
- J. El imperio romano de occidente finaliza en el año:
 - a) 476.
 - b) 376.
 - c) 404.



8. Indique si las siguientes afirmaciones son verdaderas (V) o falsas (F) (2 puntos):

- a) El último rey visigodo fue Don Rodrigo.....
- b) Uno de los edificios más importantes del arte gótico es la Alhambra de Granada.....
- c) La Guerra de los Cien Años tiene lugar entre los reyes de Francia y de Inglaterra.....
- d) Justiniano fue un emperador bizantino.....
- e) Los reinos cristianos derrotan a los almohades en la batalla de las Navas de Tolosa.....
- f) Los muladíes eran cristianos convertidos al Islam.....
- g) Alfonso X el Sabio conquistó la ciudad de Toledo en 1086.....
- h) El arte románico se caracteriza por el uso del arco apuntado y la bóveda de crucería.....
- i) El califato de Córdoba lo creó Abderramán III.....
- j) La peste negra tiene lugar en el siglo XIII.....

9. Sitúe cada personaje o acontecimiento histórico en la etapa a la que corresponde (2 puntos):

- I Guerra Mundial.
- Invención de la rueda.
- Revolución bolchevique.
- Reinos de Taifas.
- Democracia ateniense.
- Carlomagno.
- Caída del muro de Berlín.
- Guerra de los Treinta Años.
- Paleolítico.
- Reinado de Felipe II.

PREHISTORIA	EDAD ANTIGUA	EDAD MEDIA	EDAD MODERNA	EDAD CONTEMPORÁNEA

10. Conteste a las siguientes cuestiones, subrayando la respuesta correcta: (3 puntos)

- A. ¿Cuál de estos acontecimientos ocurrió durante el reinado de los Reyes Católicos?
 - a) La conquista de Granada.
 - b) La reforma protestante.
 - c) La Guerra de los Treinta Años.
- B. Portugal y Castilla se repartieron el mundo en el Tratado de:
 - a) Santa Fe.
 - b) Lisboa.
 - c) Tordesillas.
- C. ¿Qué rey español envió la Armada Invencible contra Inglaterra?
 - a) Felipe III.
 - a) Felipe II.
 - b) Carlos I.
- D. Los frescos de la Capilla Sixtina del Vaticano son obra de:
 - a) Miguel Ángel.
 - b) Leonardo da Vinci.



- c) Rafael.
- E. La Guerra de los Treinta Años finalizó con la firma de:
- a) La Paz de Westfalia.
 - a) La Paz de París.
 - b) La Paz de los Pirineos.
- F. En el Antiguo Régimen los grupos sociales que gozaban de privilegios fiscales eran:
- a) Los burgueses.
 - a) Los campesinos.
 - b) Los nobles.
- G. La Revolución Industrial a finales del siglo XVIII se inició en:
- a) Gran Bretaña.
 - b) Bélgica.
 - c) Alemania.
- H. La Revolución Francesa comenzó con:
- a) El Terror de los jacobinos.
 - b) La toma de la Bastilla.
 - c) El gobierno de Robespierre.
- I. El objetivo del anarquismo es:
- a) La dictadura del proletariado.
 - b) Eliminación del Estado.
 - c) Creación de partidos políticos.
- J. La función de aprobar las leyes y el presupuesto de la Unión Europea corresponde a:
- a) Tribunal de Cuentas.
 - b) Parlamento Europeo.
 - c) Comisión Europea.

11. Señale con una cruz la respuesta correcta de las siguientes obras artísticas: (3 puntos)



NOMBRE DE LA OBRA:

Palacio de la Aljafería ____

Mezquita de Córdoba ____

Alhambra de Granada ____

**SIGLO DE INICIO DE LA
CONSTRUCCIÓN:**

XVI-XVII ____

XIV- XV ____


XVIII- XIX ____

ESTILO ARTÍSTICO:

Islámico ____

Gótico ____

Modernista ____



NOMBRE DE LA OBRA:

El David de Miguel Ángel _____

El Discóbolo de Mirón _____

Apoxiomenos de Lisipo _____

ESTILO ARTÍSTICO:

Arte Griego _____

Arte Romano _____

Renacimiento _____

PERIODO HISTÓRICO:

Entre el siglo V a. C y el siglo IV
a.C _____

Entre el siglo I a.C y el siglo II d.C _____

Entre el siglo XV y XVI _____



NOMBRE DE LA OBRA:

Las Señoritas de Avignon _____

Las Damas _____

Las Tres Gracias _____

AUTOR:

Picasso _____

Monet _____

Rubens _____

ESTILO ARTÍSTICO:

Romanticismo _____

Barroco _____

Gótico _____



NOMBRE DE LA OBRA:

La Familia de Carlos IV _____

Carlos III y su familia _____

La Familia de Felipe V _____

AUTOR:

El Greco _____

Miguel Ángel _____

Francisco de Goya _____

ESTILO ARTÍSTICO:

Barroco _____

Romanticismo _____

Impresionismo _____



12. Clasifique los siguientes instrumentos musicales según la familia a la que pertenezcan: Triángulo – bandurria - clarinete - violonchelo - trombón – timbal - bombo - violín -xilófono - flauta – tuba – arpa (2 puntos)

PERCUSIÓN	VIENTO	CUERDA