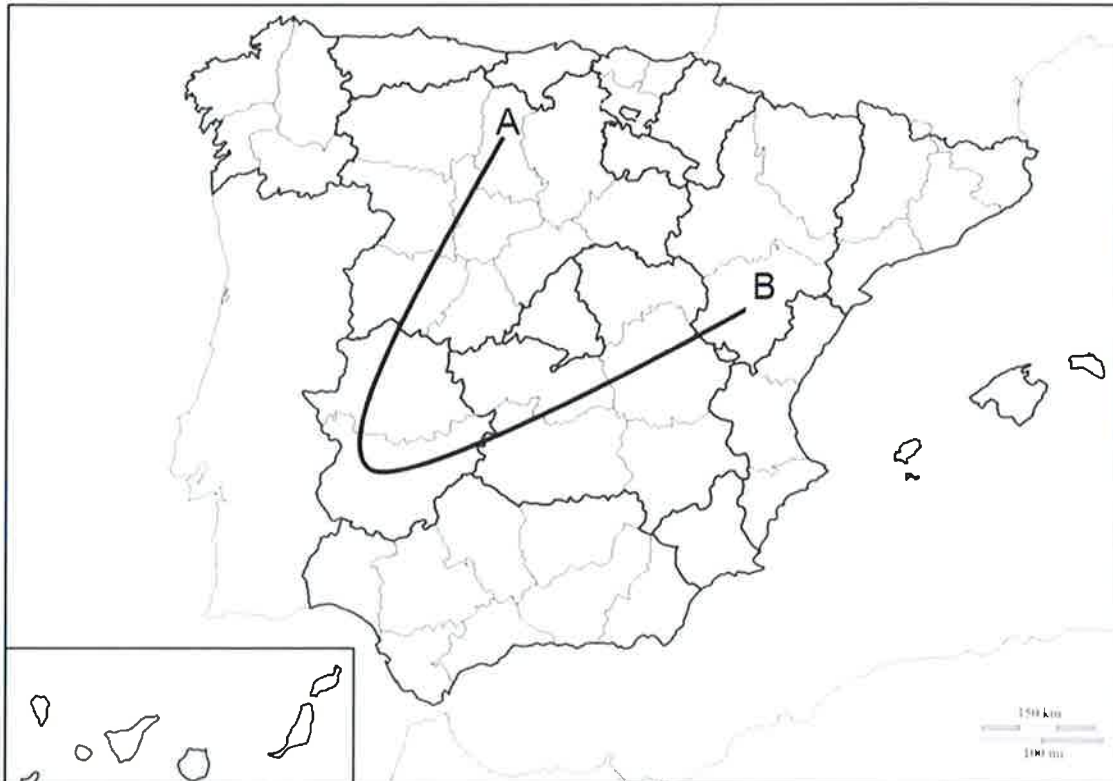




Comunidad de Madrid

DATOS DEL ASPIRANTE	
APELLIDOS:	
NOMBRE:	D.N.I./N.I.E.:

1. **MAPA PROVINCIAL DE ESPAÑA.** Escriba en el cuadro inferior, el nombre de las diez provincias por las que pasa la línea dibujada en el mapa siguiendo **POR ORDEN** desde el punto A hasta el B.



Fuente: Elaboración propia.

NOMBRE DE LAS PROVINCIAS DEL MAPA POR ORDEN (DESDE A HASTA B)			
1		6	
2		7	
3		8	
4		9	
5		10	

(1 punto: 0,1 puntos cada respuesta correcta)



Comunidad de Madrid

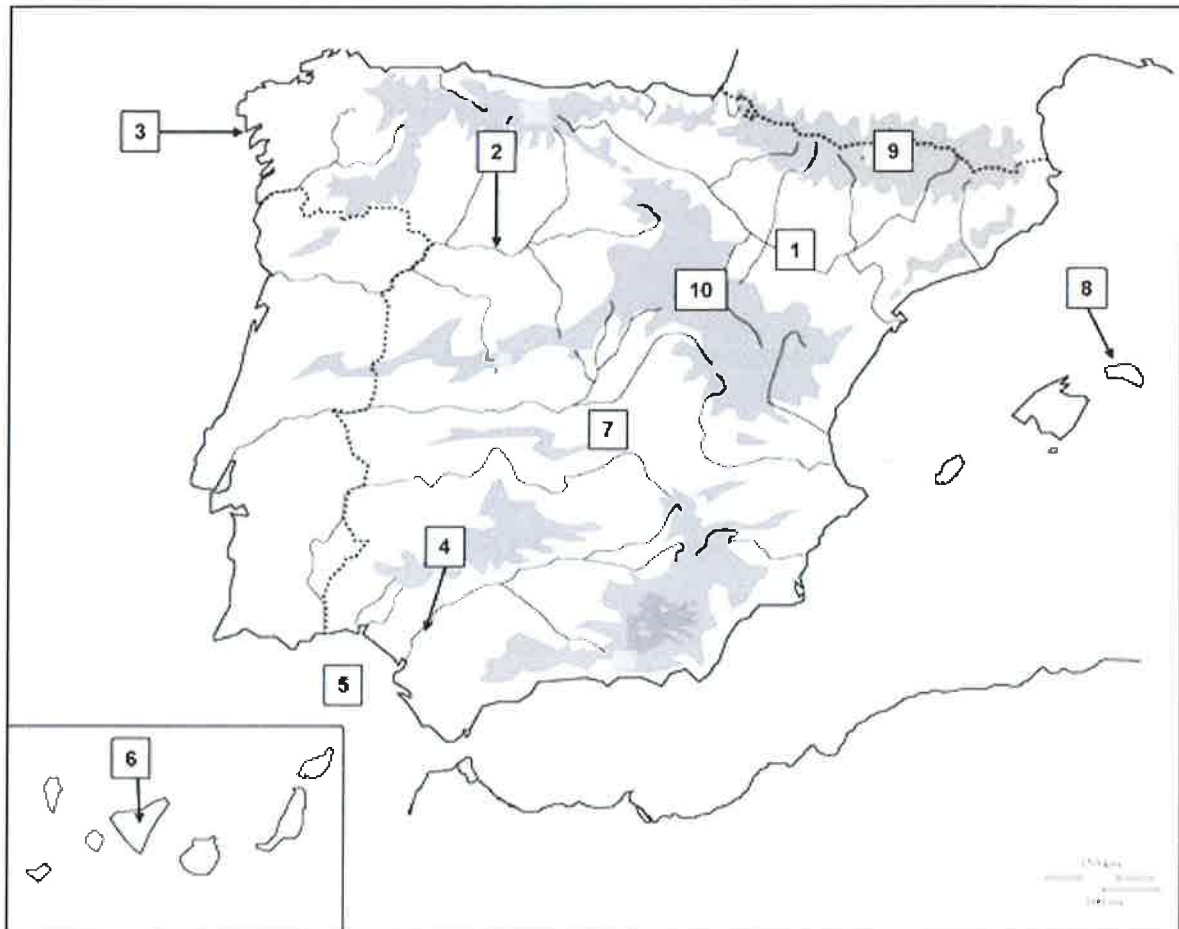
DATOS DEL ASPIRANTE

APELLIDOS:

NOMBRE:

D.N.I./N.I.E.:

2. MAPA FÍSICO DE ESPAÑA. Escriba en el cuadro inferior los números que correspondan con los siguientes accidentes geográficos presentes en el mapa:



Fuente: Elaboración propia.

NUMERAR LOS ACCIDENTES GEOGRÁFICOS SEÑALADOS EN EL MAPA

	Río Duero		Sistema Ibérico
	Submeseta Sur		Cabo de Finisterre
	Isla de Menorca		Río Guadalquivir
	Pirineos		Golfo de Cádiz
	Depresión del Ebro		Isla de Tenerife

(1 punto: 0,1 puntos cada respuesta correcta)



Comunidad de Madrid

DATOS DEL ASPIRANTE

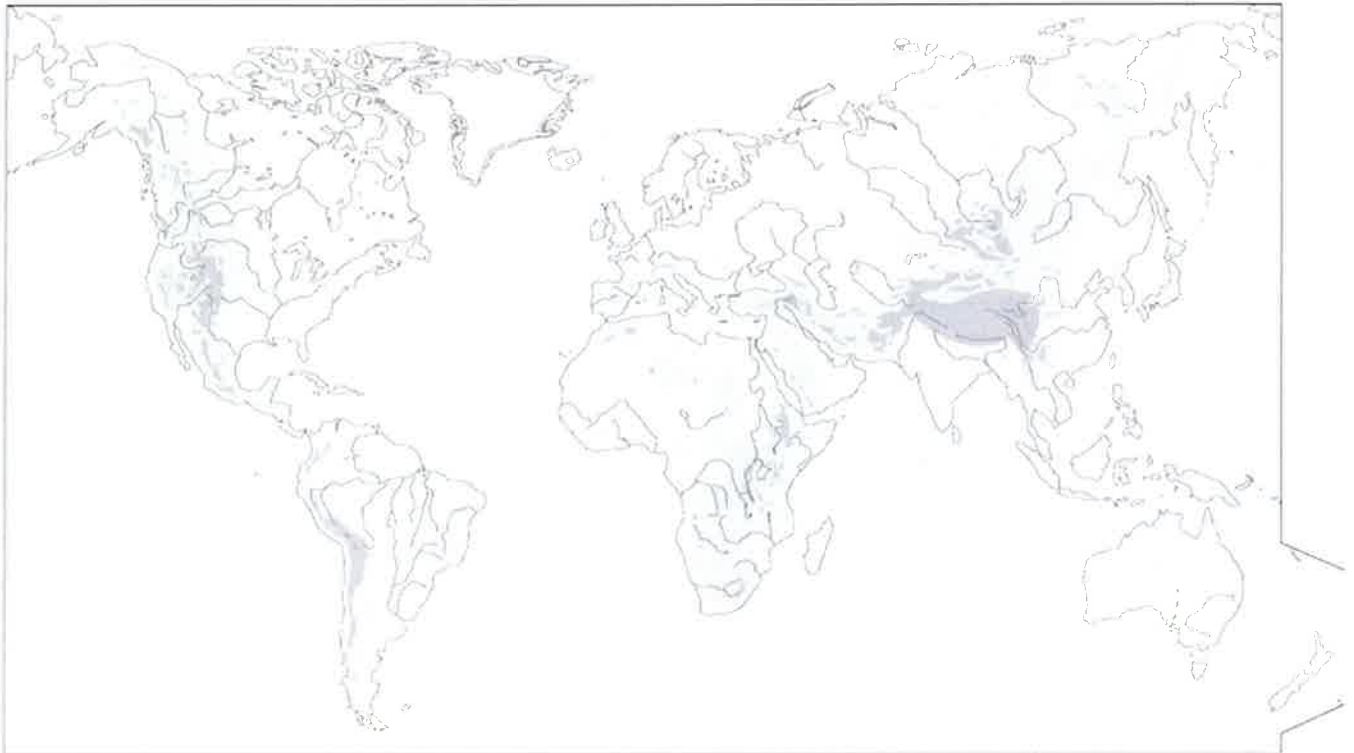
APELLIDOS:

NOMBRE:

D.N.I./N.I.E.:

3. **MAPAMUNDI.** Escriba en el mapamundi, con la mayor precisión posible, los números correspondientes al relieve físico que se relaciona más abajo.

(1 punto: 0,1 puntos cada respuesta correcta)



- | | |
|---------------------------|------------------------------|
| 1. Río Amazonas | 6. Río Nilo |
| 2. Montañas Rocosas | 7. Golfo de Guinea |
| 3. Península del Labrador | 8. Archipiélago de Filipinas |
| 4. Isla de Madagascar | 9. Mar Caspio |
| 5. Océano Pacífico | 10. Montes Urales |



Comunidad de Madrid

DATOS DEL ASPIRANTE	
APELLIDOS:	
NOMBRE:	D.N.I./N.I.E.:

4. **CUADRO.** Observe el cuadro titulado: "Unión Europea. Los diez países con mayor inmigración (2015)" y conteste a las preguntas que se realizan.

Unión Europea. Los 10 países con mayor inmigración (2015)					
País		Total Inmigrantes	País		Total Inmigrantes
1	Alemania	1.543.800	6	Polonia	218.100
2	Reino Unido	631.500	7	Holanda	166.900
3	Francia	363.900	8	Austria	166.300
4	España	342.100	9	Bélgica	146.600
5	Italia	280.100	10	Suecia	134.200

Fuente: Eurostat (2015).

- a) ¿Explique qué es un inmigrante? Ponga un ejemplo.
- b) Explique dos causas que provoca la migración de población a estos países de la Unión Europea.
- c) Explique dos consecuencias que conlleve la migración de población a estos países de la Unión Europea.

(1,5 puntos: 0,5 puntos cada apartado)



Comunidad de Madrid

DATOS DEL ASPIRANTE	
APELLIDOS:	
NOMBRE:	D.N.I./N.I.E.:

5. Escriba en la columna de la izquierda del cuadrante inferior, los siguientes personajes relevantes del período Barroco y en la columna de la derecha las obras que les corresponden:

(1 punto: 0,2 puntos cada respuesta correcta)

Relación de personajes y obras:

- Francisco de Zurbarán
- Gian Lorenzo Bernini
- Isaac Newton
- Johannes Vermeer
- William Shakespeare

- Baldaquino de la Basílica de San Pedro de Roma
- Romeo y Julieta
- San Hugo en el monasterio de los cartujos
- Leyes de la Física
- La joven de la perla.

Se rellenará como el siguiente ejemplo:

PERSONAJE	OBRA
Diego Velázquez	<i>Las Meninas</i>

PERSONAJES	OBRAS



Comunidad de Madrid

DATOS DEL ASPIRANTE

APELLIDOS:

NOMBRE:

D.N.I./N.I.E.:

6. **IMAGEN.** Observe la siguiente obra escultórica y conteste a las preguntas que se realizan sobre ella.



- ¿Quién es el autor de esta escultura?
- Nombre de la obra.
- ¿Qué es lo que está representando?
- Explique dos características técnicas o de estilo de esta obra.

(1 punto: 0,25 puntos cada apartado)



Comunidad de Madrid

DATOS DEL ASPIRANTE	
APELLIDOS:	
NOMBRE:	D.N.I./N.I.E.:

8. Lea con atención el siguiente texto y conteste a las preguntas que se realizan.

TEXTO: *"En las discusiones motivadas por los desastres de la funesta e imposible guerra, sostenida por España con los Estados Unidos, se han involucrado tres cuestiones totalmente diversas: la lucha separatista; la intervención de la República Americana, y la impericia guerrera y administrativa de nuestras clases directoras, a las cuales atribuyen muchos nuestra actual decadencia.*

No hemos aprendido nada de las enseñanzas de las pasadas guerras. El primer error ha sido enviar a Cuba, en vez de 50.000 hombres bien equipados y alimentados, 200.000 soldados, en su mayor parte bisoños, y en un país donde la vida es carísima (...) Y todo para perseguir 20.000 insurrectos. Cuando el enemigo no desea combatir y vive refugiado en un territorio sin carreteras, ferrocarriles, ni población, emboscado en una vegetación impenetrable (...).

La guerra no termina en tales condiciones por las armas, sino por la política. Además todos los que hemos estado en Cuba sabemos que el clima es mortífero, en triste complicidad con nuestra pésima administración, es decir, con el hambre, los atrasos en las pagas, el desbarajuste en la distribución y movimiento de las columnas (...)"

Extraído de: Santiago Ramón y Cajal, El Liberal, 26 de Octubre de 1898.

(1 punto: 0,25 puntos cada apartado)

- ¿A qué guerra se refiere? ¿Cuál fue el acontecimiento detonante?
- ¿Qué consecuencias territoriales tuvo para España?
- ¿Quién era el Jefe del Estado de España en ese período?
- Realice una valoración de alguna de las críticas que se realizan.



Comunidad de Madrid

DATOS DEL ASPIRANTE	
APELLIDOS:	
NOMBRE:	D.N.I./N.I.E.:

9. Lea con atención el siguiente texto y conteste a las preguntas que se realizan.

TEXTO: Carta de Kennedy a Kruschev (1962). [Extracto]

“Querido señor presidente:

He leído su carta del 26 de octubre con gran detenimiento y celebro conocer su deseo de buscar una pronta solución al problema. Lo primero que precisa hacerse, sin embargo, es cesar en el trabajo de las instalaciones para proyectiles dirigidos en Cuba, a inutilizar todas las armas ofensivas existentes en Cuba, bajo la supervisión de las Naciones Unidas.

En la creencia de que esto se llevará a cabo prontamente, he dado instrucciones a mis representantes en Nueva York que les permitirán trazar durante este fin de semana, en cooperación con el secretario general en funciones de las Naciones Unidas y sus representantes, un acuerdo para una solución permanente del problema cubano siguiendo las líneas sugeridas por usted: es decir, acordará eliminar estas instalaciones para armas ofensivas existentes en Cuba, bajo la observación y supervisión de las Naciones Unidas.

Nosotros, por nuestra parte, estaremos dispuestos a lo siguiente:

- Levantar inmediatamente las medidas de cuarentena ahora en vigor;*
- Dar seguridad contra la invasión de Cuba. Confío en que otras naciones del hemisferio occidental estén dispuestos a actuar del mismo modo.*

El efecto de tal acuerdo sobre la tensión mundial nos permitirá continuar trabajando hacia un acuerdo general referente a «otros armamentos» como propone usted en su segunda carta que ha hecho pública. Me gustaría señalar de nuevo que los Estados Unidos están interesados en reducir las tensiones y detener la carrera de armamentos. Y esta carta significa que usted está dispuesto a discutir una tregua que afecta a la OTAN y al Pacto de Varsovia, nosotros estamos dispuestos a considerar con nuestros aliados cualquier propuesta o propuestas convenientes.

Pero la primera condición, preciso es recalcarlo, es el cese del trabajo en las instalaciones de lanzamiento de proyectiles dirigidos en Cuba y las adecuadas medidas para inutilizar tales proyectiles, bajo concretas garantías internacionales. La continuación de esta amenaza, o la extensión de esta discusión referente a Cuba relacionándola con otras cuestiones referentes a la seguridad europea y del mundo, conducirán seguramente a una intensificación de la crisis cubana y a un grave efecto para la paz del mundo.”

28 de octubre de 1962. John F. Kennedy.

(1 punto: 0,25 puntos cada apartado)



Comunidad de Madrid

DATOS DEL ASPIRANTE	
APELLIDOS:	
NOMBRE:	D.N.I./N.I.E.:

a) Explique ¿Por qué EE. UU. tiene tanto interés en el “cese de las instalaciones de misiles”?

b) Razone ¿Por qué esta situación de tensión es una amenaza para la seguridad del mundo?

c) Realice una explicación del término: “guerra fría”.

d) ¿Qué son la OTAN y el Pacto de Varsovia?

