



G CONSELLERIA  
O EDUCACIÓ  
I I UNIVERSITAT  
B DIRECCIÓ GENERAL  
/ FORMACIÓ  
PROFESSIONAL  
I FORMACIÓ  
PROFESSORAT

## PROVA D'ACCÉS A GRAU MITJÀ

*Convocatòria de 2019*

### VERSIÓ CATALANA

#### INSTRUCCIONS DE LA PROVA

- Disposau d'**1 hora** per fer la prova.
- L'examen s'ha de presentar escrit **amb tinta blava o negra**, no a llapis.
- **No** es poden usar **telèfons mòbils** ni **aparells electrònics**.
- **No** es pot entrar a l'examen amb **textos o documents escrits**.
- Les errades **ortogràfiques** penalitzen **fins a 2 punts**.

#### DADES PERSONALS DE L'ALUMNE/A

Nom: \_\_\_\_\_

Llinatges: \_\_\_\_\_

DNI / NIE:

--	--	--	--	--	--	--	--	--

Qualificació:

--

Signatura de l'alumne/a:

--

**Bona sort!**

C. SOCIALS

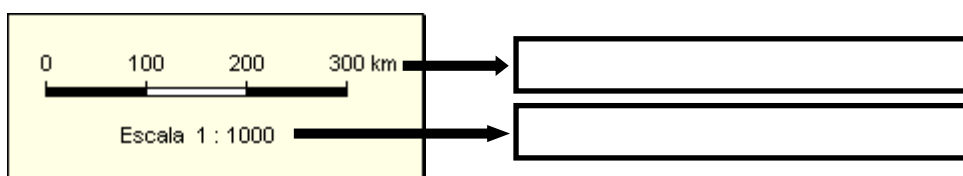
## 1. Punts cardinals



- Col·locau els quatre punts cardinals. (0,2 punts cada resposta)
- El vent de tramuntana és molt característic a Mallorca i, sobretot, a Menorca. On situaríeu aquest vent en aquest estel? (0,2 punts)

## 2. Escales

- Escriviu en el requadre si és una escala gràfica o numèrica. (0,2 punts cada resposta)



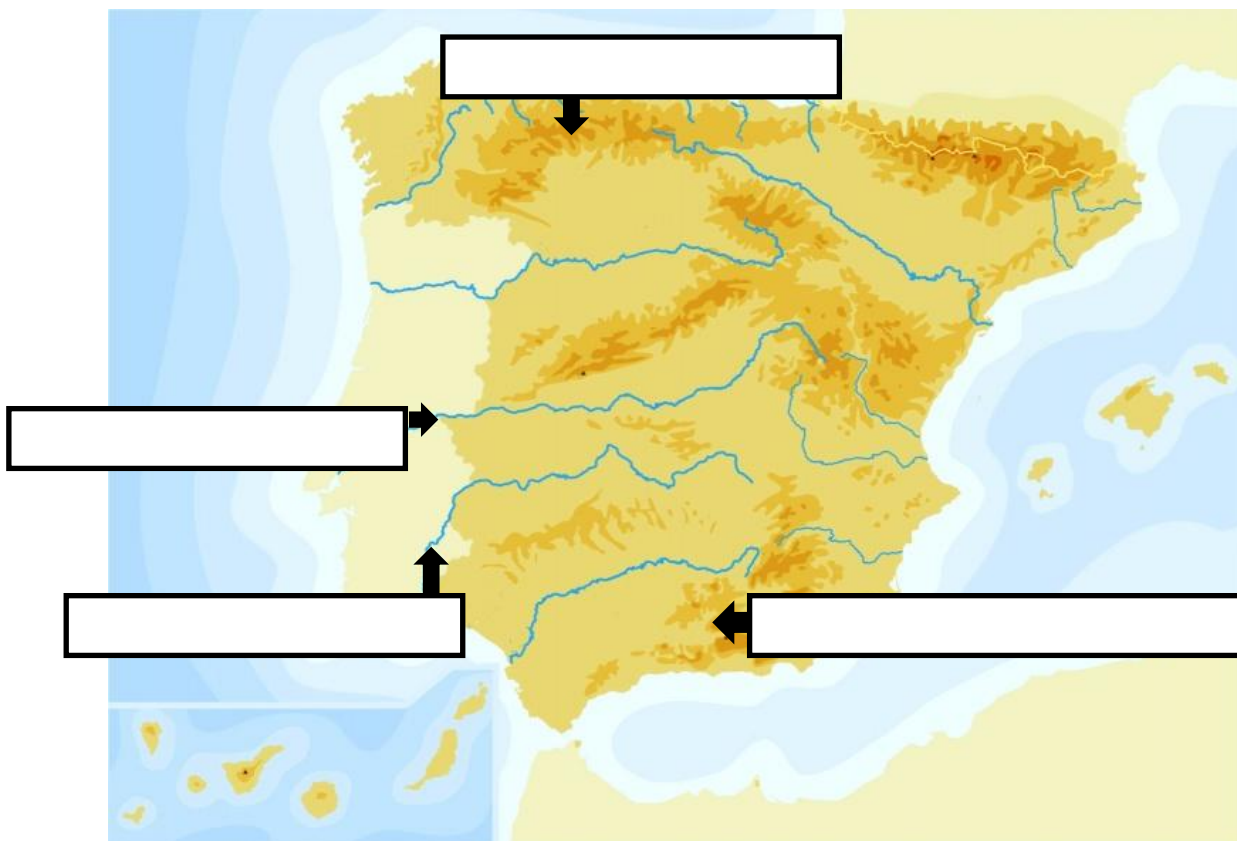
- Ompliu la taula següent sobre escales numèriques: (0,3 punts cada resposta)

<b>Escala</b>	<b>Dibuix</b>	<b>Real</b>
1:50		10 km
1:200	2 mm	

## 3. Coordenades. (0,25 punts cada resposta)

- Les línies que travessen la Terra verticalment són els .....
- En un mapamundi, el meridià que divideix la Terra en dues meitats iguals o hemisferis és el meridià de .....
- Els meridians situats a la dreta del meridià 0° tenen longitud .....
- Els meridians situats a l'esquerra del meridià 0° tenen longitud .....

4. Posau al mapa el nom de les 2 serralades i dels 2 rius assenyalats. (0,25 punts cada resposta)



5. Posau al mapa el nom de 5 països que formin part de la UE. (0,2 punts cada resposta)

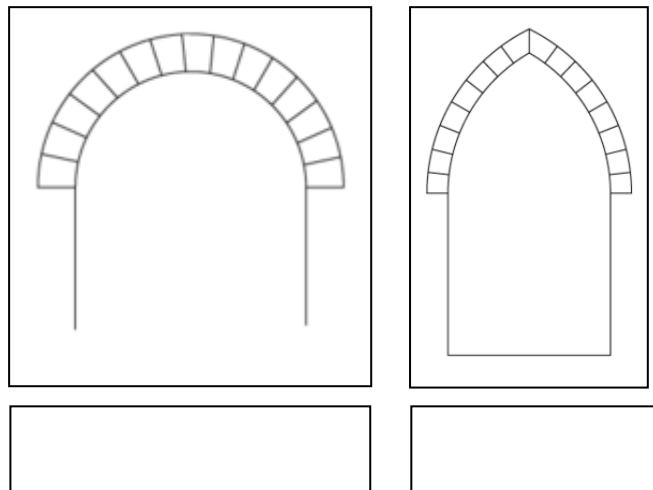


6. Ordenau les etapes de la història següents de la més moderna a la més antiga. (0,2 punts cada resposta)

<input type="checkbox"/>	Edat moderna
<input type="checkbox"/>	Edat contemporània
<input type="checkbox"/>	Edat mitjana
<input type="checkbox"/>	Edat antiga
<input type="checkbox"/>	Prehistòria

7. Quins dos monuments de la cultura talaiòtica únicament es troben a l'illa de Menorca? (0,5 punts cada resposta)



8. Aquí teniu dos arcs; un utilitzat a l'art romànic i un altre a l'art gòtic. Identificau-los al requadre inferior. (0,5 punts cada resposta)



9. La principal conseqüència demogràfica de la Revolució Industrial va ser l'enorme creixement de la població. Aquí teniu factors que van poder fer créixer la població. Marcau amb una X les dues respostes correctes. (0,5 punts cada resposta)

- Caiguda de la mortalitat i de la mortalitat infantil.
- Elevada taxa de mortalitat.
- Augment de l'esperança de vida.
- Utilització de mètodes anticonceptius

10. Identifiqueu amb el nom i lloc on es troben aquestes dues imatges. (0,25 punts cada resposta)

	
Nom:	Nom:
Ciutat:	Ciutat: