



PRUEBA DE ACCESO A GRADO MEDIO

Convocatoria de septiembre de 2015

VERSIÓN EN CASTELLANO

INSTRUCCIONES DE LA PRUEBA

- Dispone de **1 hora** para realizar la prueba.
- El examen se debe presentar **escrito en bolígrafo** de tinta **AZUL** o **NEGRA**, en ningún caso se puede presentar a lápiz.
- **No se pueden usar teléfonos móviles ni aparatos electrónicos.**
- **No se puede entrar al aula con textos o documentos escritos.**

DATOS PERSONALES DEL ALUMNO

Nombre:

Apellidos:

DNI / NIE:

--	--	--	--	--	--	--	--	--

Calificación:

--

Firma del alumno:

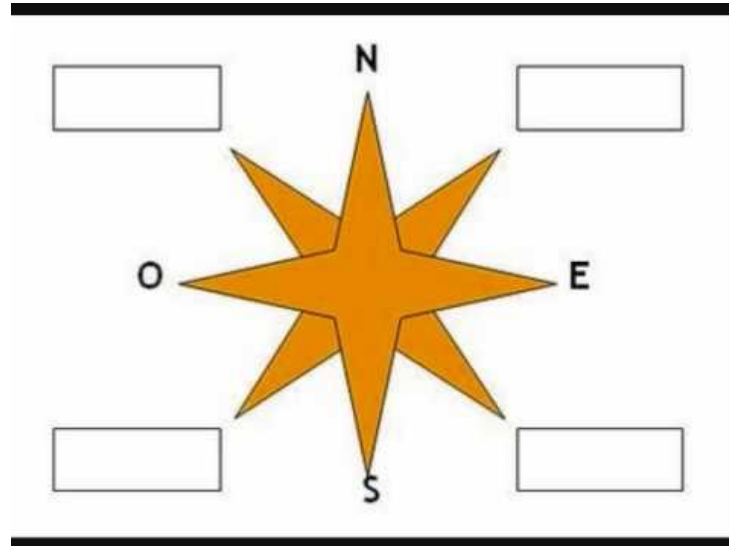
--

¡Buena Suerte!

CS. SOCIALES

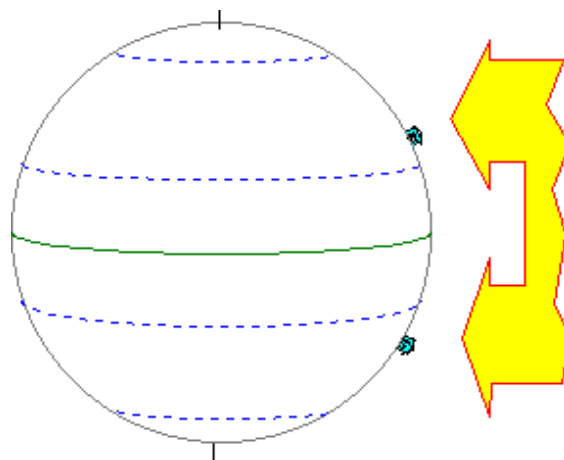
1. Puntos cardinales:

- a) Completa el nombre de los cuatro puntos cardinales. (0,2 puntos)
- b) Escribe, en los recuadros vacíos (de manera desarrollada y no con siglas), los puntos cardinales intermedios. (0,8 puntos)



2. Localiza y escribe sobre la esfera terrestre los siguientes paralelos:

- a) El paralelo 0 grados o Ecuador. (0,2 puntos)
- b) El trópico de Cáncer (0,2 puntos) y el de Capricornio (0,2 puntos)
- c) El círculo polar Antártico (0,2 puntos) y el Ártico (0,2 puntos)

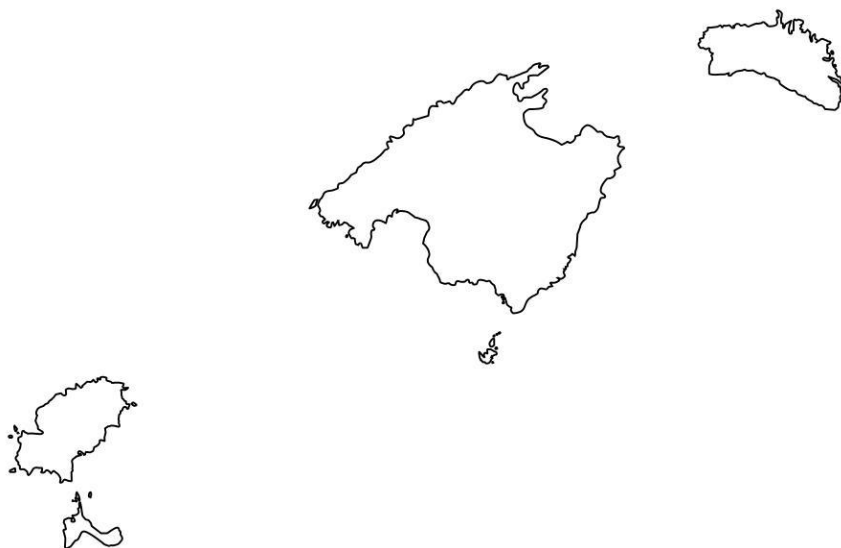


3. Observa el mapa de las Islas Baleares y contesta (usa flechas):

a) Localiza y escribe, en el mapa, el nombre de las distintas islas del Archipiélago Balear. (0,4 puntos)

b) Escribe en el mapa y señala con flechas: (0,6 puntos)

- Sierra de Tramuntana.
- Bahía de Palma.
- Bahía de Pollença.
- Isla de Cabrera.
- El Pla.
- Isla Conillera.



4. Ordena cronológicamente (1-2-3-4-5), de más antiguo a más actual, los siguientes hechos: (0,2 puntos cada apartado)

- a) Conquista de Mallorca por el rey Jaime I el Conquistador. ()
- b) Descubrimiento de América. ()
- c) Segunda Guerra Mundial. ()
- d) Cultura talayótica. ()
- e) Revolución industrial. ()

5. Completa el texto con alguna de las palabras siguientes:

honda – navetas – romanos – taulas – fenicios – ganadería -talayótica

- a) “En el II milenio a.C. se desarrolló en Mallorca y en Menorca la cultura _____ . Una de sus construcciones más características es el talayote, torre que da nombre a esta cultura. En la isla de Menorca se construyeron, además, _____ y _____ . Las comunidades talayóticas vivían fundamentalmente de la _____ y sus hombres eran famosos por su habilidad con la _____ . Ibiza, en cambio, fue colonizada por los _____ , que convirtieron la isla en un gran centro de intercambio comercial y de distribución de mercancías. A finales del siglo II a.C., nuestras islas fueron conquistadas por los _____ ”. (0,35 puntos: 0,05 cada espacio)
- b) Define “taula” y “naveta” (0,4 puntos), realiza un dibujo para ilustrar tu explicación. (0,25 puntos)

6. ¿En qué océano o mar desembocan los siguientes ríos españoles? Especifica, en tu contestación, si es mar u océano. (1 punto)

Río	Mar /Océano	Río	Mar /Océano
Miño		Tajo	
Duero		Guadiana	
Guadalquivir		Llobregat	
Ebro		Turia	
Nervión		Júcar	

7. Sobre el Estado de las Autonomías. Contesta usando flechas, si es necesario:

- a) ¿Cuántas comunidades autónomas forman el Estado español? _____ (0,2 puntos)
- b) Localiza y escribe, sobre el mapa, el nombre de las dos ciudades autónomas. (0,2 puntos)

- c) Escribe el nombre, sobre el mapa, de las comunidades autónomas que tienen costa en el Cantábrico. (0,4 puntos)
- d) Ubica, sobre el mapa, el nombre de la comunidad autónoma a la cual pertenecen nuestras islas. (0,1 puntos)
- e) Escribe el nombre, sobre el mapa, de otra comunidad autónoma española que es un archipiélago. (0,1 puntos)



8. Contesta:

- a) Distingue entre tiempo y clima. (0,45 puntos)
- b) Pon ejemplos de climas de la zona templada. (0,15 puntos)
- c) ¿Qué clima tenemos en las Islas Baleares? Relaciona las características de las diferentes estaciones referente a temperatura, precipitación, sol, humedad o sequía, etc. (0,4 puntos)

9. Relaciona cada instrumento (letra) con el elemento del clima que mide (número): (0,2 puntos cada respuesta)

a. Anemómetro	1. Temperatura	(a,)
b. Higrómetro	2. Viento	(b,)
c. Termómetro	3. Precipitación	(c,)
d. Pluviómetro	4. Presión atmosférica	(d,)
e. Barómetro	5. Humedad	(e,)

10. Realiza una redacción donde compares las características de los países desarrollados (como es el caso de España) con los países pobres o subdesarrollados (caso de África subsahariana), cogiendo como referentes (1 punto):

- a) La sanidad (si tienen muchos hospitales, muchos médicos...)
- b) La educación (si tienen muchas escuelas, cómo son...)
- c) Cómo es el transporte (si tienen buenas vías de comunicación, carreteras, etc.)
- d) En qué se basa su economía (agricultura, ganadería y/o industria atrasada o próspera)
- e) Motivos o causas de que las personas emigren de su país hacia otro lugar.