

<b>PRUEBA ACCESO A CICLOS FORMATIVOS DE GRADO MEDIO</b>	Junio 2014 SOCIAL
---	----------------------

DATOS DEL ASPIRANTE	CALIFICACIÓN PRUEBA	
Apellidos:	Nombre:	
D.N.I. o Pasaporte:	Fecha de nacimiento:                    /                    /	

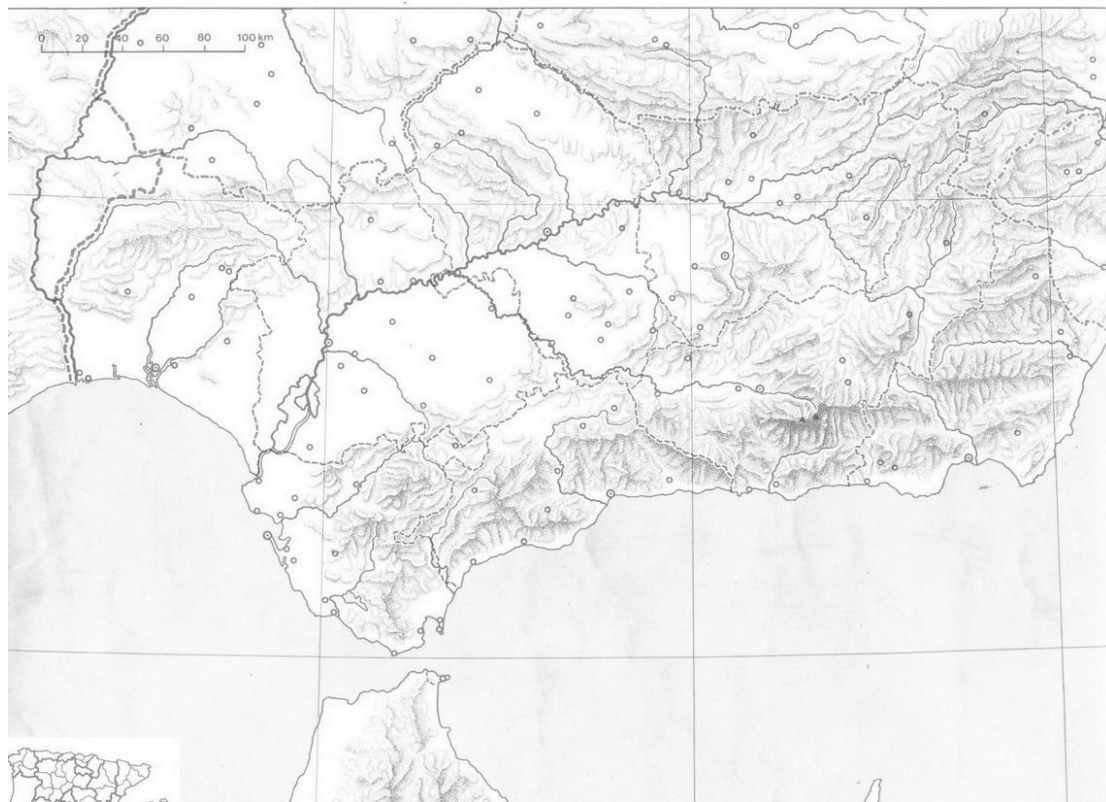
**Instrucciones:**

- **Lee atentamente las preguntas antes de contestar.**
- **La puntuación máxima de cada pregunta está indicada en cada enunciado.**
- **Revisa cuidadosamente la prueba antes de entregarla.**

**A. Geografía. (3 puntos)**

**1.** Sitúa en el mapa de Andalucía las cuatro unidades de relieve que te planteamos. (1 punto)

A. Sistemas Subbéticos	B. Depresión del Guadalquivir	C. Sierra Morena	D. Sistemas Penibéticos
------------------------	-------------------------------	------------------	-------------------------



**2.** Relaciona cada una de las definiciones con el concepto que corresponda (1 punto)

Clima    Tiempo atmosférico    Atmósfera    Pluviómetro
---

DEFINICIONES	CONCEPTO
Aparato que sirve para medir el agua de lluvia que cae sobre un lugar concreto	
Estado de la atmósfera en un lugar y un momento determinados	
Capa de gases que rodea la tierra compuesta básicamente por oxígeno y nitrógeno	
Conjunto de condiciones atmosféricas que se observan en una región a lo largo de un período de años amplio	

**3.** Lee el siguiente texto y responde a las preguntas que se plantean a continuación (1 punto).

*La población empadronada en España se ha reducido por primera vez desde 1996, primer año del que existen datos oficiales, y a fecha 1 de enero de 2013 había 47.059.533 personas inscritas, 205.788 menos que un año antes, consecuencia únicamente del éxodo de extranjeros.*

*Así, el número de extranjeros empadronados se ha reducido en 216.125 personas (el 3,8 %) a lo largo de 2012 hasta los 5.520.133 millones, mientras que el de españoles ha aumentado en 10.337 (el 0,02 %), según el avance del Padrón Continuo difundido hoy por el Instituto Nacional de Estadística (INE).*

*Según estos datos, el 11,7% de los empadronados en España son extranjeros y 2,4 millones de ellos proceden de la Unión Europea (UE).*

*De los extranjeros que han optado por abandonar España, previsiblemente ante la falta de trabajo como consecuencia de la grave crisis económica que sufre el país desde 2008, los pertenecientes a la UE se han reducido en 90.639 personas hasta sumar 2.352.978 personas y los no comunitarios lo han hecho en 125.486 hasta situarse en 3.167.155.*

**A.** ¿Es cierto que la población empadronada en España ha descendido? Justifica tu respuesta.

**B.** ¿Qué es el INE?

**C.** ¿Cuál es, según el artículo de elmundo.es, uno de los motivos por los que la población española ha descendido?

**D.** ¿A qué crees que se debe que los extranjeros empadronados en España hayan decidido volver a sus países de origen?

**A. Historia.** (4 puntos)

**4.** Rellena el siguiente texto sobre la Edad Media observando el mapa que se propone: (1 punto)



Los \_\_\_\_\_ ocuparon durante el inicio de la Edad Media la península Ibérica. El norte de África estaba controlado por el \_\_\_\_\_ y limitaba con el \_\_\_\_\_. Éstos ocupaban un vasto territorio desde Asia Menor hasta el sur de la \_\_\_\_\_. El norte de esta península estaba controlado por los \_\_\_\_\_. Los francos eran el pueblo más importante de la Europa del momento y tenían bajo su dominio los territorio de las actuales \_\_\_\_\_ y parte de \_\_\_\_\_.



5. Lee las siguientes afirmaciones e indica si son verdaderas (V) o falsas (F). (1 punto)

Afirmación	V/F
La Revolución Francesa da inicio a la Edad Contemporánea	
La Restauración europea se desarrolla una vez Napoleón es derrotado	
Italia se unifica después de la Primera Guerra Mundial	
El liberalismo económico es una teoría económica liderada por Adam Smith	
La Revolución Industrial se inicia en España	
El proletariado es una clase social que surge con el feudalismo	
El fin del Antiguo Régimen supone el paso de una sociedad estamental a una de clases	
El socialismo surge con la Revolución Industrial	
El reparto de África se desarrolló durante la Conferencia de Berlín	
Es la nobleza y el clero la que consideraba necesaria acabar con el Antiguo Régimen antes de la Revolución Francesa	

6. De los siguientes hechos históricos del siglo XX que te ofrecemos a continuación, ordena el lugar y el momento en el que se produjeron: (1 punto)

Hecho histórico	Fecha	Lugar
Revolución de Octubre	1929	EE. UU
II República	1962	Rusia
La Gran Depresión	1917	Alemania
Ascenso de Hitler al poder	1931 - 1936	Cuba
Crisis de los misiles	1933	España

7. Completa los espacios en blanco en cada una de las fichas de estas dos obras de arte: (1 punto)

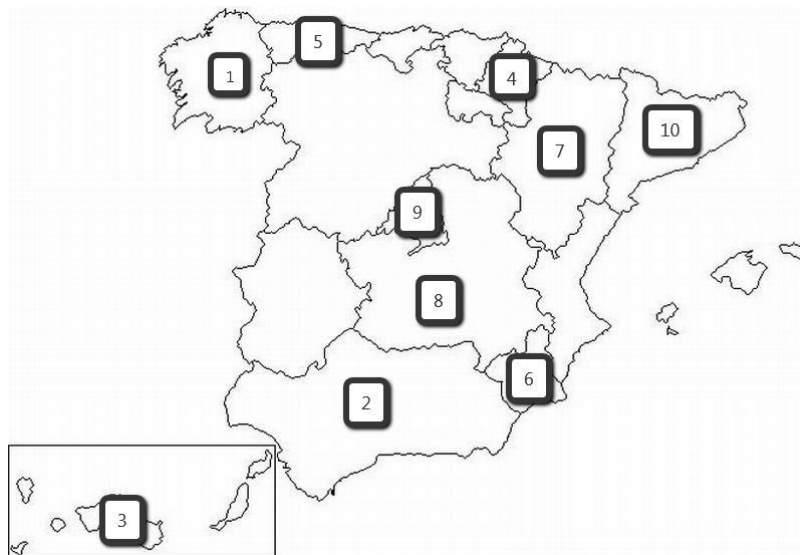
	<p><b>Nombre:</b></p> <p><b>Localización:</b></p> <p><b>Estilo artístico:</b></p> <p><b>Cronología:</b></p>
	<p><b>Nombre:</b></p> <p><b>Localización:</b></p> <p><b>Estilo artístico:</b></p> <p><b>Cronología:</b></p>

**A. Mundo Actual.** (3 puntos)

**8.** Señala la respuesta correcta a las cuestiones que se te plantean: (1 punto)

España ingresa en la Unión Europea	<input type="checkbox"/> En 1986 <input type="checkbox"/> En 1957 <input type="checkbox"/> En 2007
La administración que organiza el autogobierno en la Comunidad Autónoma Andaluza es	<input type="checkbox"/> La Generalitat <input type="checkbox"/> La Junta de Andalucía <input type="checkbox"/> El Consejo del Estado Andaluz (CEA)
España, como estado, se define como una	<input type="checkbox"/> Monarquía constituyente <input type="checkbox"/> Monarquía parlamentaria <input type="checkbox"/> República monárquica
El sistema político español se divide en tres poderes:	<input type="checkbox"/> Legislativo, judicial y comunicativo <input type="checkbox"/> Legislativo, ejecutivo y judicial <input type="checkbox"/> Legislativo, lingüístico y judicial
El organismo que se encarga de promocionar, defender y velar por el cumplimiento de los Derechos Humanos es:	<input type="checkbox"/> La OTAN <input type="checkbox"/> La ONU <input type="checkbox"/> El FMI

**9.** Relaciona el nombre de la Comunidad Autónoma que corresponda con el número situado en el mapa: (1 punto):



- Nº 1: .....
- Nº 2: .....
- Nº 3: .....
- Nº 4: .....
- Nº 5: .....
- Nº 6: .....
- Nº 7: .....
- Nº 8: .....
- Nº 9: .....
- Nº 10: .....

**10.** Responde a las cuestiones que se plantean a continuación relativas a las situaciones de subdesarrollo y los derechos humanos (1 punto)

- A.** Indica el nombre de tres países que consideres pobres o subdesarrollados
- B.** Indica tres derechos humanos que no se respeten en alguno de esos países
- C.** ¿Hay alguna organización que luche contra estas desigualdades? Justifica tu respuesta