

PRUEBA ACCESO A CICLOS FORMATIVOS DE GRADO MEDIO	Septiembre 2013 SOCIAL
---	---------------------------

DATOS DEL ASPIRANTE		CALIFICACIÓN PRUEBA
Apellidos:		Nombre:
D.N.I. o Pasaporte:	Fecha de nacimiento:	/ /

Instrucciones:

- **Lee atentamente las preguntas antes de contestar.**
- **La puntuación máxima de cada pregunta está indicada en cada enunciado.**
- **Revisa cuidadosamente la prueba antes de entregarla.**

Geografía. (3 puntos)

1. Sitúa en el mapa los números y letras según corresponda. (1 punto)






A. Río Ebro **B.** Pirineos **C.** Sistemas Ibéricos **D.** Depresión del Guadalquivir **E.** Macizo Galaico

2. Identifica dos características con cada uno de los espacios naturales que existen en España: (1 punto)

A. Ríos cortos y caudalosos **B.** Temperaturas suaves todo el año **C.** Vegetación de cardones y pitas.
D. Bosques de encinas y matorrales **E.** Predominio de llanuras y mesetas **F.** Clima oceánico **G.**
Inviernos suaves y veranos calurosos **H.** Clima mediterráneo

España húmeda		
España interior		
España sur y mediterránea		
España tropical		

3. Observa las siguientes imágenes e indica a qué sector productivo pertenece cada una de ellas. Responde a la pregunta que se plantea a continuación. (1 punto):

		
Sector:	Sector:	Sector:

¿Cuál de los tres sectores es el más importante en nuestra comunidad? _____

Historia. (4,5 puntos)

4. Lee el siguiente texto y contesta a las cuestiones que se plantean a continuación (1,5 puntos):

El descubrimiento de América en 1492 por Cristóbal Colón fue uno de los hechos más importantes de la historia europea y condicionó la evolución política, social y económica de los siglos siguientes.

Es posible que durante la Edad Media llegasen algunas expediciones nórdicas a la costa de Norteamérica, pero, ya desde comienzos del siglo XV, portugueses y castellanos habían iniciado un intento de llegar a Oriente (las Indias), proveedor de especias y de productos de gran valor, mediante un camino alternativo a las rutas tradicionales del Mediterráneo oriental (...)

A finales del siglo XV parecía claro que los portugueses se habían adelantado a los castellanos en la conquista de la ruta de las especias y de los metales preciosos, gracias al dominio que ya ejercían sobre la costa occidental africana. En este momento, Cristóbal Colón, que había estado a las órdenes del rey de Portugal, ofreció a los Reyes Católicos el proyecto de llegar a las Indias siguiendo una ruta hacia el oeste en lugar de bordeando todo el continente africano. Para poner en práctica su proyecto, Colón partía de la idea de la esfericidad de la Tierra, cuestión controvertida en la época. Finalmente, por las Capitulaciones de Santa Fe, los Reyes Católicos acordaron con Colón el inicio de la expedición.

El 3 de agosto de 1492 Colón inició su viaje saliendo del puerto de Palos de la Frontera en Huelva. La expedición de tres naves llegó a una pequeña isla de las Antillas el 12 de octubre.

Durante mucho tiempo Colón siguió creyendo que había llegado a Asia por la ruta occidental, pero en realidad se había encontrado con la existencia de un continente desconocido en Europa: América.

Fuente: El descubrimiento de América. Historiasiglo20.org

A. Indica si las siguientes afirmaciones son verdaderas o falsas: (0,5 puntos)

- Las primeras expediciones que llegaron a América parece ser que fueron del norte de Europa. [V / F]
- Los portugueses, durante el siglo XV, ya controlaban parte del territorio costero africano. [V / F]
- Colón, que sabía que la tierra era redonda, plantea la opción de llegar al continente americano a través de una ruta por el oeste. [V / F]
- El acuerdo que Colón firma con los Reyes Católicos para llegar su expedición a las Indias es el Tratado de Tordesillas. [V / F]
- El descubrimiento de América supuso un momento clave en la evolución económica y política de los siglos posteriores. [V / F]

B. En el texto se habla de las “Capitulaciones de Santa Fe”. ¿Sabes decirnos qué fueron? (0,5 puntos)

C. ¿De dónde partió Colón en su viaje hacia las Indias? (0,25 puntos)

D. A la vuelta del viaje, ¿sabía Colón que había descubierto un nuevo continente? (0,25 puntos)

5. Lee las siguientes preguntas e indica cuáles son las correctas (1 punto):

La Restauración absolutista surge en 1815 tras

- La derrota de Napoleón Bonaparte.
- El fin de la Revolución Industrial.
- La unificación italiana.
- El fin de la Guerra de los 30 años.

El liberalismo tiene sus bases ideológicas en

- Las ideas de la Restauración.
- Las ideas de la Ilustración.
- Las ideas de Dante.
- Las ideas del Antiguo Régimen.

La Primera constitución española aparece en 1812, durante

- La Guerra de Sucesión.
- La firma de los Decretos de Nueva Planta.
- La dictadura de Primo de Rivera.
- Las Cortes de Cádiz.

¿Cuáles de estas causas provocaron el desarrollo del imperialismo en Asia y África?

- El deseo de desarrollar económicamente a los territorios africanos y asiáticos y la necesidad de importar población exterior.
- El exceso de población en Europa, la necesidad de materias primas y el prestigio internacional.
- La necesidad de extender la cultura europea a todos los territorios de la tierra, el exceso de riquezas en Europa y el control de territorios en América.
- El prestigio internacional, la necesidad de abrir nuevos mercados y terminar con la esclavitud.

La Revolución Francesa comenzó con






- El gobierno de Napoleón Bonaparte
- La Asamblea Nacional Constituyente
- La convención
- La convocatoria de los Estados Generales

6. Ordena los siguientes hechos históricos del siglo XX de más antiguo a más actual (1 punto)

Acontecimiento histórico	orden
Revolución Rusa	
Guerra Civil Española	
Caída del Muro de Berlín	
Gran Depresión	
Atentado de las Torres Gemelas	
Fin de la Segunda Guerra Mundial	
Paz de Versalles	
Crisis de los misiles en Cuba	
Fin de la dictadura franquista	
Proclamación de la II República	

7. Relaciona cada una de estas obras de artes con el estilo al que corresponde (1 punto)

Barroco – Hispanomusulmán – Romano - Gótico – Contemporáneo

		
Mezquita de Córdoba	Teatro de Mérida	Catedral de Burgos
Arte _____	Arte _____	Arte _____
		
Las Meninas. Velázquez	El Gernika. Picasso	
Arte _____	Arte _____	

Mundo Actual. (2,5 puntos)

8. De los siguientes artículos, indica cuáles pertenecen a la Declaración Universal de Derechos Humanos y cuáles no (1 punto):

La Nación se obliga a mantener el culto y los ministros de la religión católica que profesan los ciudadanos	
Toda persona tiene derecho a la propiedad, individual y colectivamente	
La justicia se administra en nombre del Rey	
Toda persona tiene deberes respecto a la comunidad, puesto que sólo en ella puede desarrollar libre y plenamente su personalidad	
Nadie podrá ser arbitrariamente detenido, preso ni desterrado	
Todo español está obligado a defender la Patria con las armas, cuando sea llamado por la ley	
En caso de persecución, toda persona tiene derecho a buscar asilo, y a disfrutar de él, en cualquier país	
Todos los seres humanos nacen libres e iguales en dignidad y derechos y, dotados como están de razón y conciencia, deben comportarse fraternalmente los unos con los otros	

9. Sobre el siguiente planisferio: (1,5 puntos)



A. indica las zonas en las que se concentran los países con un índice de desarrollo humano (IDH) "medio - bajo" y aquellos que lo presentan "muy alto - alto". Indica también tres países de cada uno de ambos grupos (1 punto)

B. Ejemplos de países con IDH "medio - bajo": (0,25 puntos)

C. Ejemplos de países con IDH "muy alto - alto": (0,25 puntos)

