

Puntuación total del ámbito

____ / 100

Calificación del ámbito (cualitativa/numérica)

____ / ____

DATOS DE LA PERSONA ASPIRANTE

Apellidos: _____

Nombre: _____ DNI / NIE/PASAPORTE: _____

En _____, a ____ de _____ de 2022.

Firma: _____

INSTRUCCIONES GENERALES

- En total dispone de **UNA HORA Y MEDIA** para realizar la prueba de este ámbito.
- Escriba con letras mayúsculas los datos que se le piden en el recuadro de esta portada. No se olvide de firmar y poner su DNI/NIE/Pasaporte donde se indica.
- Lea con atención los enunciados de las preguntas, y escriba con letra clara, utilizando **bolígrafo azul o negro**.
- Para las respuestas, use los espacios en blanco existentes.
- Si se equivoca, tache el error con una línea. Ejemplo
- Si el error es en una pregunta de elección de respuesta, tache el error y subraye lo correcto. Ejemplo
- No está permitido el uso de teléfonos u otros dispositivos móviles durante la realización de la prueba.

CRITERIOS DE CALIFICACIÓN DE LA PRUEBA

- La prueba consta de **varias preguntas organizadas en tres bloques:**

Geografía: 40 puntos

Historia: 40 puntos

Arte: 20 puntos

- La prueba del ámbito social se evalúa de 0 a 100 puntos. Para superar el ámbito hay que obtener un **mínimo de 50 puntos**.
- La puntuación máxima de cada ejercicio se indica en su enunciado, junto con los criterios de corrección correspondientes.
- Se valorará la identificación correcta de las cuestiones; el conocimiento y comprensión de los temas tratados; la precisión en el vocabulario y expresión empleados; la precisión cronológica y espacial; la capacidad para caracterizar periodos históricos, estilos artísticos y elementos geográficos y económicos; la capacidad de relación, aplicación, razonamiento y síntesis de información a partir de diversas fuentes.
- Se valorará la presentación clara y ordenada, así como la correcta expresión escrita.

CALENDARIO

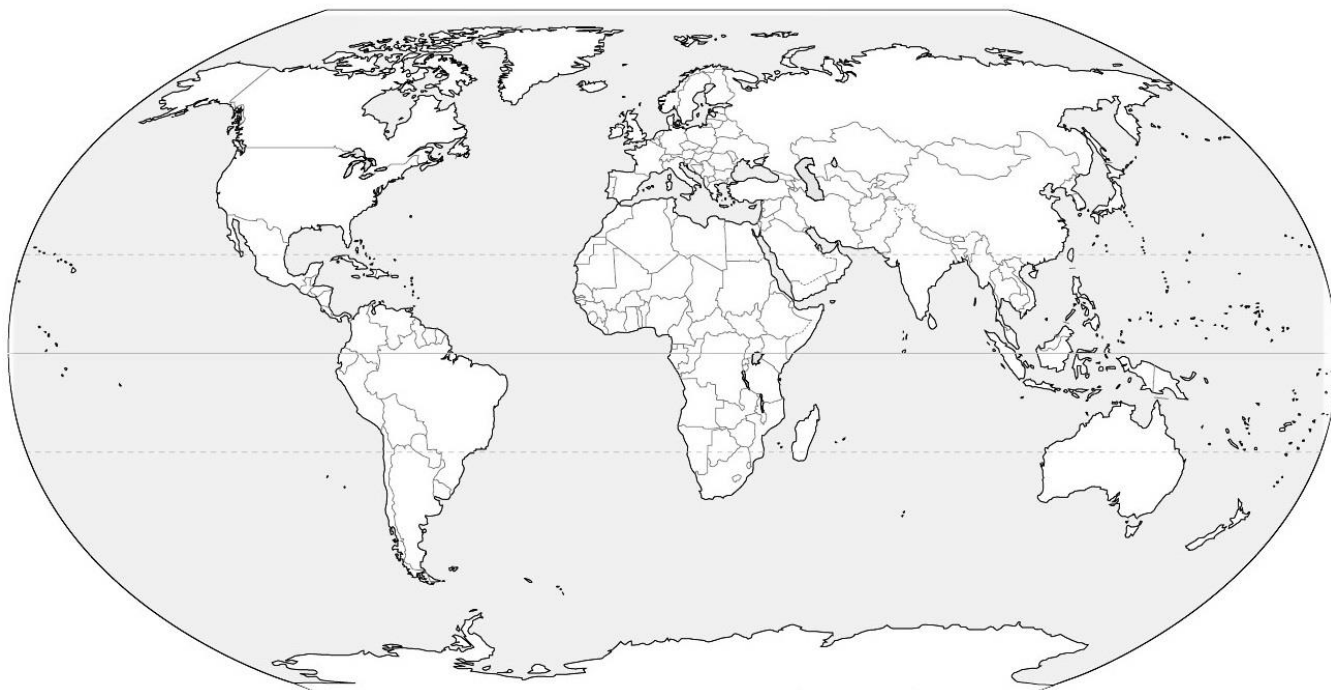
- Los resultados provisionales se publicarán en el centro el 17 de junio de 2022; los definitivos, el día 27 de junio. Podrán consultarse también en www.educantabria.es.
- Si obtiene el Graduado en Educación Secundaria Obligatoria o supera algún ámbito, no olvide recoger la certificación que lo acredita.

BLOQUE DE GEOGRAFÍA

1.- Localice en el mapamundi los siguientes países colocando el número correspondiente en el lugar adecuado: [1 punto cada respuesta correcta. Total: 10 puntos]

- 1- Australia
- 2- Ucrania
- 3- Brasil
- 4- India
- 5- Arabia Saudita

- 6- Méjico
- 7- Argelia
- 8- Alemania
- 9- Perú
- 10- Turquía



2.- Lea el siguiente texto y conteste a las cuestiones: [Total: 11 puntos]

Frío, miedo o desolación. Eso es lo que revelan las caras de los aproximadamente dos mil migrantes provenientes de Oriente Medio y África que continúan varados en la parte bielorrusa de la frontera con Polonia. Muchos definen este drama humanitario como "guerra híbrida". Pero, ¿a qué se refieren los medios cuando hablan de este concepto?

El término lo acuñó en 2007 Frank Hoffman, un teniente coronel norteamericano en la reserva, para aludir a la conjunción de modos y estrategias de guerra militares convencionales con tácticas terroristas que abarcaban la violencia y el desorden criminal. En la práctica, bajo el paraguas del concepto "guerras híbridas" se enmarcan situaciones en la que los Estados hacen uso de su capacidad militar contra otro país o actor no estatal, a la par que se valen de otros medios vinculados a los ámbitos económico, político o diplomático.

El subsecretario general de Seguridad y Defensa de la OTAN, David Cattler, afirma que "las estrategias híbridas son usadas con frecuencia por los adversarios de la OTAN porque son conscientes de que en un conflicto convencional no podrían imponerse políticamente, militarmente o económicamente". El desarrollo tecnológico ha propiciado que aumente la variedad de herramientas que aplicar en lo que para muchos especialistas no es más que una modernización de la "guerra de guerrillas" a través del uso de internet o redes sociales para condicionar el resultado

de procesos electorales o mediante ciberataques para poner en jaque infraestructuras críticas de los Estados, como pueden ser su administración financiera, los servicios de salud o los suministros de agua o energía.

"La hibridación implica también a más actores aparte de los estatales, como empresas o grupos criminales, para llevar a cabo campañas de desestabilización o agresión contra terceros", explica el investigador del Real Instituto Elcano en materia de Defensa y Seguridad, Félix Arteaga. Para Arteaga, el caso del desafío bielorruso a la Unión Europea en la frontera con Polonia supone un episodio de "guerra híbrida" en la medida en que se utilizan fuerzas armadas y de seguridad para "encauzar los flujos migratorios generados políticamente por un Estado (Bielorrusia)" y se les "canaliza contra un país (Polonia)" y, por ende, contra la Unión Europea.

La diferencia de las guerras híbridas con las convencionales radica en que ahora estas acciones hostiles ocurren en períodos donde no hay una declaración de guerra previamente establecida, oscilando en un vacío entre paz y guerra al que los expertos en geopolítica han bautizado como "zona gris". Si antes las maniobras hostiles entre Estados solían consistir, además del despliegue militar, en la retirada de visados diplomáticos o el bloqueo económico, con la guerra híbrida han cobrado fuerza la utilización de la presión migratoria, los ciberataques o el uso de internet como palanca para orquestar campañas que condicionen la opinión pública a través de "fake news" con el mismo objetivo común históricamente: desestabilizar a Estados adversarios hasta conseguir que se fracturen.

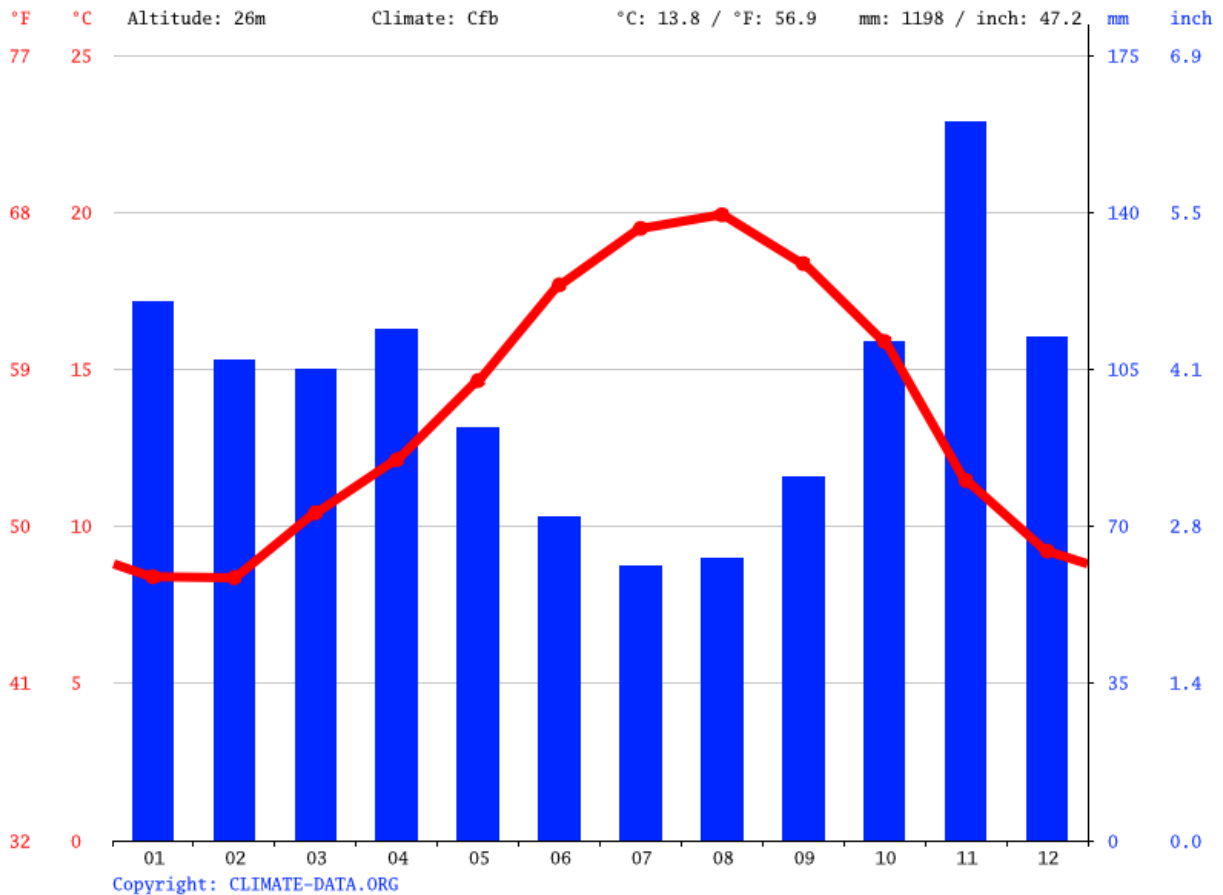
Guillermo Azábal, "Guerras híbridas: cuando los conflictos se modernizan pero nada cambia". Madrid, 25 nov, 2021 (EFE). (Adaptado)

2.1. ¿Cuándo aparece el término "guerra híbrida" y cómo la define su creador? [3 puntos]

2.2. ¿Por qué se la puede considerar como "guerra de guerrillas moderna". [4 puntos]

2.3. Anote dos diferencias entre las guerras híbridas y las guerras convencionales [4 puntos]

3.- A partir del siguiente climograma conteste a las cuestiones: [Total 10: puntos]



3.1. ¿Cuál es la temperatura más alta y en qué mes se registra? [1,75 puntos]

3.2. ¿Cuál es la temperatura más baja y en qué mes se registra? [1,75 puntos]

3.3. Calcule la amplitud térmica [1,75 puntos]

3.4. ¿Cuál es el mes con más precipitaciones y cuánto es su cuantía? [1,75 puntos]

3.5. Seleccione en cada columna la opción correcta referida al climograma: [3 puntos]

ZONA CLIMÁTICA	TIPO DE CLIMA	VEGETACIÓN ASOCIADA
a) Templada	a) Mediterráneo	a) Selva tropical
b) Cálida	b) Tropical	b) Bosque caducifolio
c) Fría	c) Oceánico	c) Bosque mediterráneo

4.- Seleccione la respuesta correcta: [1,5 puntos cada respuesta correcta. Total: 9 puntos]

4.1. Actividades económicas que se incluyen en el sector terciario:

- a) Minería y explotación forestal.
- b) Asesoría financiera y transporte de mercancías.
- c) Fabricación de automóviles y producción energética.

4.2. Se produce en una administración pública cuando los gastos son mayores que los ingresos:

- a) Deuda pública
- b) Inflación
- c) Déficit fiscal

4.3. Denominamos población activa a:

- a) todos los habitantes en edad laboral que trabajan o buscan empleo
- b) los habitantes en edad laboral que trabajan en un empleo remunerado
- c) los habitantes en edad laboral en búsqueda de empleo

4.4. La existencia de materias primas es un factor de localización industrial:

- a) Político
- b) Demográfico
- c) Geográfico

4.5. La renta per cápita se calcula:

- a) Dividiendo el PIB de un país entre su población
- b) Dividiendo la población de un país entre su PIB
- c) Dividiendo la población de un país entre su extensión

4.6. En una economía socialista de planificación central todas las decisiones las toma:

- a) el mercado
- b) el estado
- c) los empresarios y el estado

BLOQUE DE HISTORIA

1. Sitúe los siguientes acontecimientos de la Historia de España en el periodo histórico que le corresponda. Utilice la letra asociada a cada hecho histórico para colocarlo en la tabla: [1 punto cada respuesta correcta. Total 15 puntos]

- A- Adolfo Suárez es elegido presidente del gobierno
- B- Guerras cántabras
- C- El Cid Campeador conquista Valencia
- D- Desastre de Cuba
- E- Vasco Núñez de Balboa descubre el Pacífico.
- F- Los íberos realizan la Dama de Elche
- G- Las mujeres españolas obtienen el derecho a voto
- H- Decretos de Nueva Planta
- I- Santiago Ramón y Cajal consigue el Premio Nobel de Medicina
- J- Pinturas rupestres de Altamira
- K- Abderramán III se proclama califa en Córdoba
- L- El rey visigodo Recaredo se convierte al catolicismo
- M- Velázquez pinta "Las Meninas"
- N- Fósiles del *Homo Antecessor* de Atapuerca
- Ñ- Trajano se convierte en emperador romano

PREHISTORIA	
EDAD ANTIGUA	
EDAD MEDIA	
EDAD MODERNA	
EDAD CONTEMPORÁNEA	

2.- Elabore una redacción de 80-100 palabras sobre la romanización de la Península Ibérica: (definición, cronología y fases, diferencias geográficas, medios empleados, consecuencias)

[Total 11 puntos. Desglose: 9 puntos de contenidos / 2 puntos de redacción y ortografía]

3. Lea el siguiente texto sobre la Revolución Rusa y, con la información que proporciona, complete la tabla sobre sus dos fases utilizando los enunciados que aparecen debajo de ella: [1 punto por cada respuesta correcta. Total 14 puntos]

Se denomina Revolución Rusa a los acontecimientos ocurridos entre febrero y octubre de 1917 en Rusia, que provocaron la caída del régimen zarista y el establecimiento del primer gobierno comunista del mundo. En este proceso se pueden distinguir claramente dos fases.

El estallido de la Primera Guerra Mundial y las derrotas ante Alemania deterioraron aún más la situación en Rusia por la carestía de alimentos y las levas. En 1917, con el zar Nicolás II en el frente, las protestas del pueblo crecen en la capital, Petrogrado, y, ante la represión del gobierno zarista, muy desprestigiado, se llega a una situación revolucionaria que estalla espontáneamente del 22 de febrero al 3 de marzo y que supondrá la caída del zarismo y la creación de un gobierno provisional de signo liberal y socialdemócrata.

La decisión del nuevo gobierno de mantener a Rusia en la guerra fue aprovechada hábilmente por los bolcheviques, facción extremista del partido socialista ruso, y por su líder, Lenin, que había vuelto del exilio y lanzado su programa político: las “Tesis de Abril”. Organizan un plan para hacerse con el poder en Petrogrado y en la noche del 24 al 25 de octubre asaltan el Palacio de Invierno, sede del gobierno provisional encabezado por Kerensky, e instaurarán una dictadura comunista tras disolver la Asamblea Constituyente salida de unas elecciones que no habían ganado.

	PRIMERA FASE	SEGUNDA FASE
¿ Cuándo ocurre?		
¿ Dónde tiene lugar?		
¿ Quién la realiza?		
¿ Contra quién se hace?		
¿ Por qué se produce?		
¿ Cómo sucede?		
¿Cuál es el resultado ?		


Los bolcheviques (Lenin)
 Del 22 de febrero al 3 de marzo
 Espontáneamente
 Petrogrado
 Noche del 24 al 25 de octubre
 Gobierno provisional liberal y socialdemócrata
 Hacerse con el poder

El gobierno de Kerensky
 Plan preparado
 El pueblo
 Petrogrado
 El zar Nicolás II
 Régimen comunista
 Carestía de alimentos y las levas

BLOQUE DE ARTE

1. Escriba en las etiquetas de la ilustración los elementos característicos de la arquitectura románica. Utilice para ello los términos que se relacionan en la siguiente lista: [1 por cada respuesta correcta. Total 8 puntos.]

- CONTRAFUERTE - CIMBORRIO - ÁBSIDE - CRUCERO
- PORTADA - CAMPANARIO
- ABSIDILO - CORNISA CON CANECILLOS



2. Complete la tabla que hay bajo cada pintura utilizando el término adecuado de entre los que aparecen en las siguientes listas: [1 punto por cada respuesta correcta. Total: 12 puntos.]

ESTILO ARTÍSTICO	SIGLO	TEMÁTICA	RASGO FORMAL
Románico	XII	Paisaje	Clarasuro
Gótico	XV	Costumbrista (de género)	Monocromía
Renacentista	XVI	Mitológica	Composición triangular
Barroco	XVII	Retrato	No tiene importancia el dibujo
Impresionismo	XIX	Religiosa	Es una pintura abstracta
Cubismo	XX	Bodegón	Carece de perspectiva



Estilo artístico:	
Siglo:	
Temática:	
Rasgo formal:	



Estilo artístico:	
Siglo:	
Temática:	
Rasgo formal:	



Estilo artístico:	
Siglo:	
Temática:	
Rasgo formal:	

